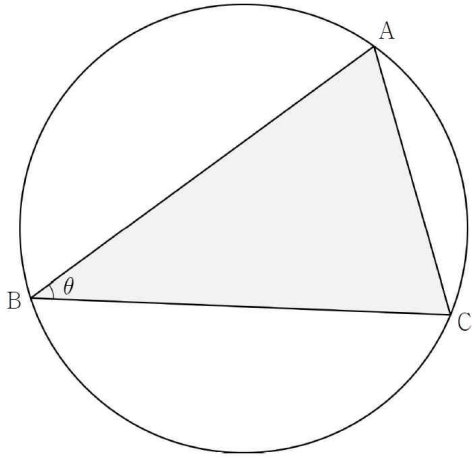


# CHII. 삼각함수

## TH①. 삼각함수의 활용

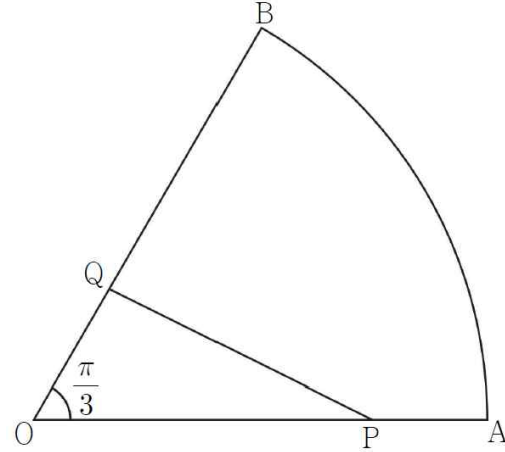
### STEP 0 Base

1. 그림과 같이 반지름의 길이가 4인 원에 내접하고 변 AC의 길이가 5인 삼각형 ABC가 있다.  $\angle ABC = \theta$ 라 할 때,  $\sin \theta$ 의 값은? (단,  $0 < \theta < \pi$ ) [3점][2020년 4월 나13]



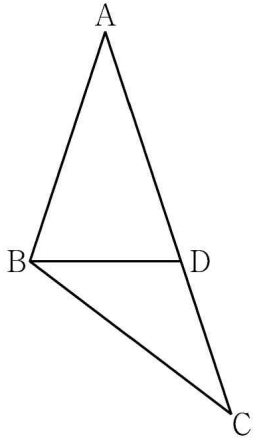
- ①  $\frac{1}{4}$
- ②  $\frac{3}{8}$
- ③  $\frac{1}{2}$
- ④  $\frac{5}{8}$
- ⑤  $\frac{3}{4}$

2. 그림과 같이 중심각의 크기가  $\frac{\pi}{3}$ 인 부채꼴 OAB에서 선분 OA를 3:1로 내분하는 점을 P, 선분 OB를 1:2로 내분하는 점을 Q라 하자. 삼각형 OPQ의 넓이가  $4\sqrt{3}$ 일 때 호 AB의 길이는? [3점][2020년 4월 가10]



- ①  $\frac{5}{3}\pi$
- ②  $2\pi$
- ③  $\frac{7}{3}\pi$
- ④  $\frac{8}{3}\pi$
- ⑤  $3\pi$

3.  $\overline{AB}=6$ ,  $\overline{AC}=10$ 인 삼각형 ABC가 있다. 선분 AC 위에 점 D를  $\overline{AB}=\overline{AD}$ 가 되도록 잡는다.  $\overline{BD}=\sqrt{15}$ 일 때, 선분 BC의 길이는? [3점][2020년 9월 가12나25]

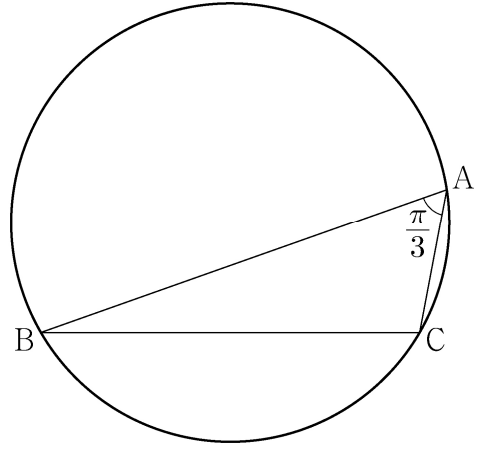


- ①  $\sqrt{37}$
- ②  $\sqrt{38}$
- ③  $\sqrt{39}$
- ④  $2\sqrt{10}$
- ⑤  $\sqrt{41}$

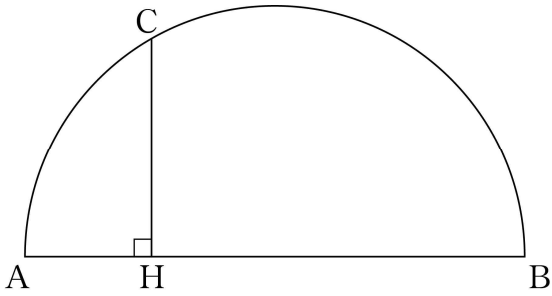
4.  $\angle A = \frac{\pi}{3}$ 이고  $\overline{AB}:\overline{AC}=3:1$ 인 삼각형 ABC가 있다.

삼각형 ABC의 외접원의 반지름의 길이가 7일 때, 선분 AC의 길이는? [3점][2021학년도 수능 가10나28]

- ①  $2\sqrt{5}$
- ②  $\sqrt{21}$
- ③  $\sqrt{22}$
- ④  $\sqrt{23}$
- ⑤  $2\sqrt{6}$



5. 그림과 같이 길이가 12인 선분 AB를 지름으로 하는 반원이 있다. 반원 위에서 호 BC의 길이가  $4\pi$ 인 점 C를 잡고 점 C에서 선분 AB에 내린 수선의 발을 H라 하자.  $\overline{CH}^2$ 의 값을 구하시오. [3점][2017년 3월 가25]



STEP 1 Plains

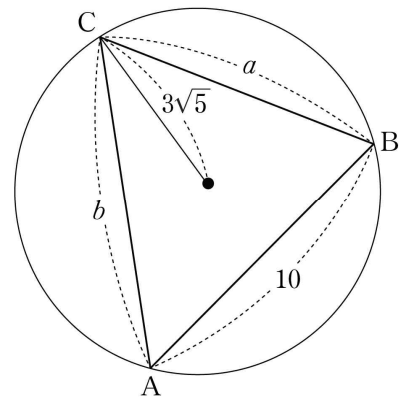
6. 길이가 각각 10,  $a$ ,  $b$ 인 세 선분 AB, BC, CA를 각 변으로 하는 예각삼각형 ABC가 있다. 삼각형 ABC의 세 꼭짓점을 지나는 원의 반지름의 길이가  $3\sqrt{5}$ 이고

$$\frac{a^2 + b^2 - ab \cos C}{ab} = \frac{4}{3}$$

일 때,  $ab$ 의 값은? [4점][2020년 3월

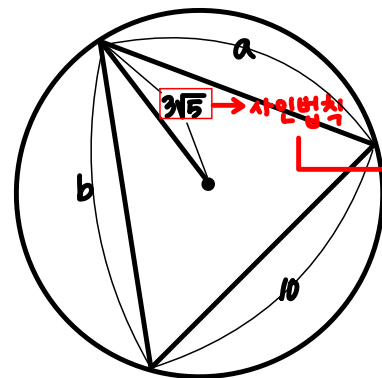
나19]

- ① 140
- ② 150
- ③ 160
- ④ 170
- ⑤ 180



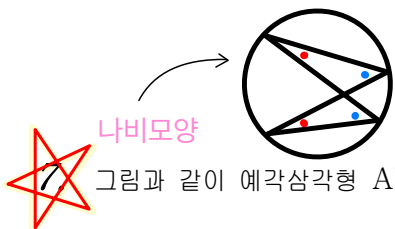
$$\frac{a^2 + b^2 - ab \cos C}{ab} = \frac{4}{3}$$

*(Handwritten note:  $b^2 + ab \cos C$  is circled in blue above the numerator)*



$$10^2 = a^2 + b^2 - 2ab \cos C$$

$$\sin C = \frac{10}{2R} = \frac{10}{2 \cdot 3\sqrt{5}}$$



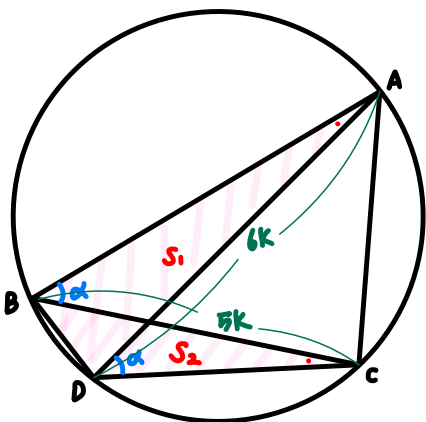
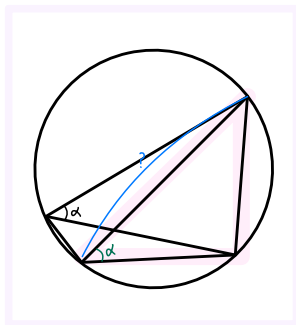
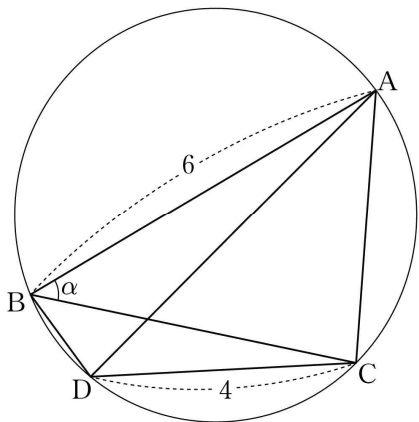
나비모양

그림과 같이 예각삼각형 ABC가 한 원에 내접하고 있다.

$\overline{AB}=6$ 이고,  $\angle ABC = \alpha$ 라 할 때  $\cos \alpha = \frac{3}{4}$ 이다. 점 A를

지나지 않는 호 BC 위의 점 D에 대하여  $\overline{CD}=4$ 이다. 두 삼각형 ABD, CBD의 넓이를 각각  $S_1, S_2$ 라 할 때,

$S_1 : S_2 = 9 : 5$ 이다. 삼각형 ADC의 넓이를  $S$ 라 할 때,  $S^2$ 의 값을 구하시오. [4점][2020년 3월 나29]



$$\cos \alpha = \frac{3}{4}$$

$$S_1 : S_2 = 9 : 5$$

$$\frac{1}{2} \times 6 \times \overline{AD} \times \sin \alpha : \frac{1}{2} \times 4 \times \overline{BC} \times \sin \alpha$$

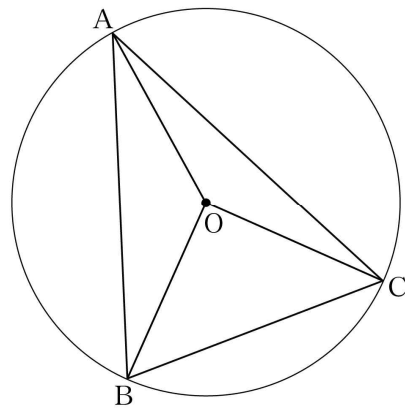
$$\frac{36 \overline{BC}}{6 \cdot 5k} = \frac{30 \overline{AD}}{5 \cdot 6k}$$

$$S = \frac{1}{2} \times 6k \times 4 \times \sin \alpha$$



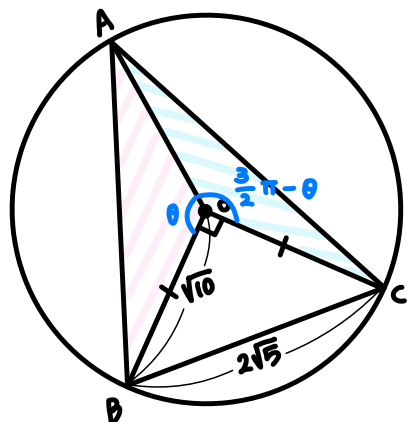
$$\begin{aligned} l^2 &= 16 + 36k^2 - 4 \cdot 6k \cos \alpha \\ &= 36 + 25k^2 - 60k \cos \alpha \end{aligned}$$

8. 그림과 같이 중심이 O이고 반지름의 길이가  $\sqrt{10}$ 인 원에 내접하는 예각삼각형 ABC에 대하여 두 삼각형 OAB, OCA의 넓이를 각각  $S_1, S_2$ 라 하자.  $3S_1 = 4S_2$ 이고  $\overline{BC} = 2\sqrt{5}$ 일 때, 선분 AB의 길이는? [4점][2020년 3월 가19]



- ①  $2\sqrt{7}$
- ②  $\sqrt{30}$
- ③  $4\sqrt{2}$
- ④  $\sqrt{34}$
- ⑤ 6

$$\overline{AB} = ? = \frac{2R \sin C}{\sqrt{10}}$$



$$3S_1 = 4S_2$$

$$\frac{1}{2} \sin \theta = \frac{1}{2} \sin(\frac{3}{2}\pi - \theta)$$

$$-\cos \theta$$

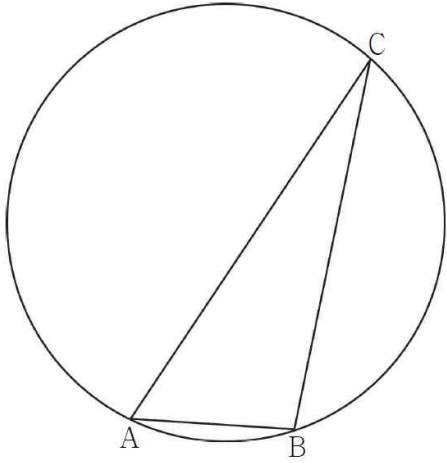
$$\tan \theta = -\frac{4}{3}$$

$$\cos \theta < 0 \quad \frac{4}{3}$$

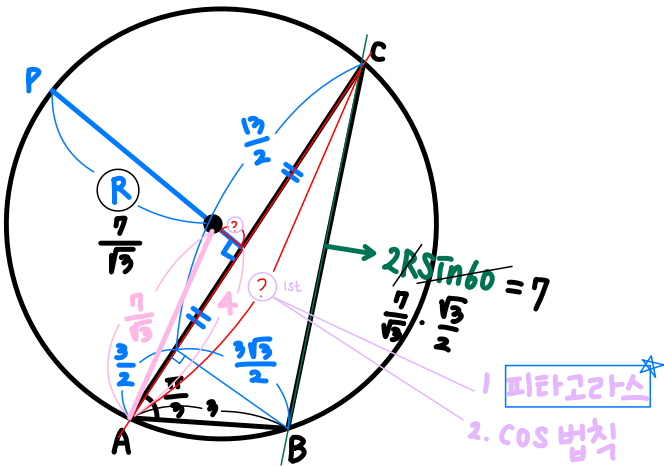
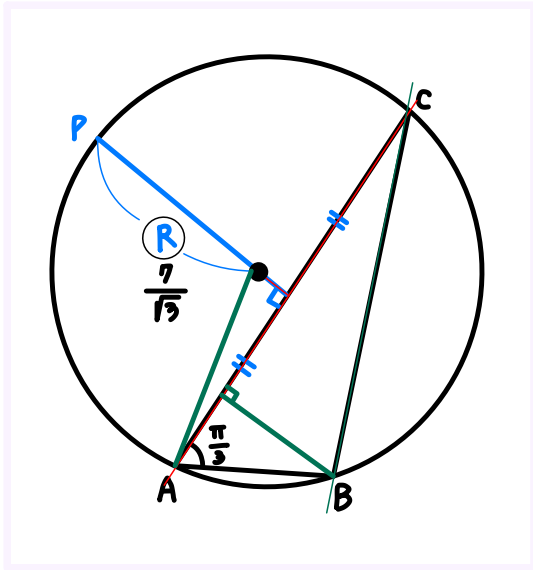
$$\cos \theta = -\frac{3}{5}$$

$$AB^2 = 10 + 10 - 2 \times 10 \times \cos \theta$$

9. 그림과 같이 원  $C$ 에 내접하고  $\overline{AB}=3$ ,  $\angle BAC = \frac{\pi}{3}$ 인 삼각형  $ABC$ 가 있다. 원  $C$ 의 넓이가  $\frac{49}{3}\pi$ 일 때, 원  $C$  위의 점  $P$ 에 대하여 삼각형  $PAC$ 의 넓이의 최댓값은? (단, 점  $P$ 는 점  $A$ 도 아니고 점  $C$ 도 아니다.) [4점][2020년 4월 가19]



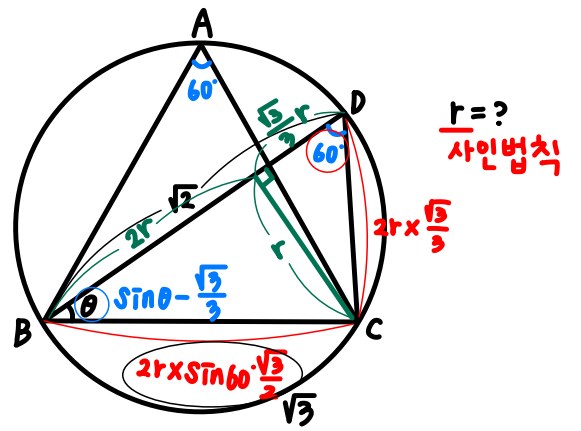
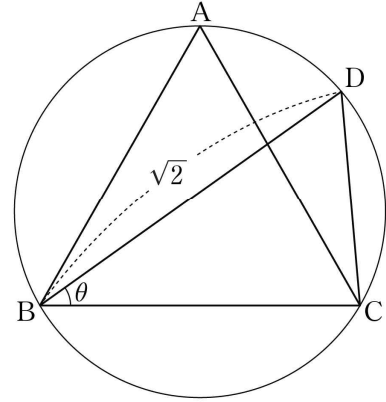
- ①  $\frac{32}{3}\sqrt{3}$
- ②  $\frac{34}{3}\sqrt{3}$
- ③  $12\sqrt{3}$
- ④  $\frac{38}{3}\sqrt{3}$
- ⑤  $\frac{40}{3}\sqrt{3}$



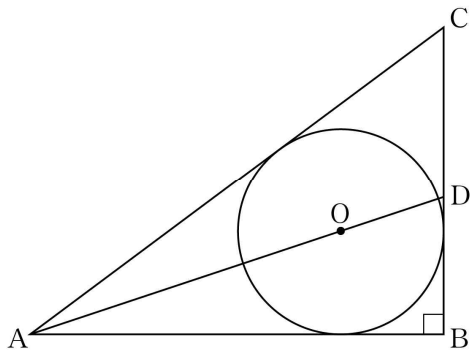
나비모양

10. 정삼각형  $ABC$ 가 반지름의 길이가  $r$ 인 원에 내접하고 있다. 선분  $AC$ 와 선분  $BD$ 가 만나고  $\overline{BD} = \sqrt{2}$ 가 되도록 원 위에서 점  $D$ 를 잡는다.  $\angle DBC = \theta$ 라 할 때,  $\sin \theta = \frac{\sqrt{3}}{3}$ 이다. 반지름의 길이  $r$ 의 값은? [4점][2020년 10월 나19]

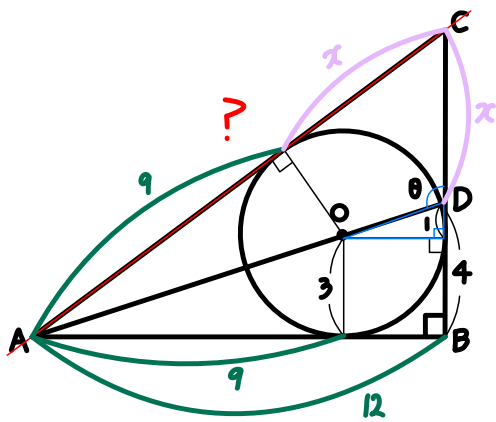
- ①  $\frac{6-\sqrt{6}}{5}$
- ②  $\frac{6-\sqrt{5}}{5}$
- ③  $\frac{4}{5}$
- ④  $\frac{6-\sqrt{3}}{5}$
- ⑤  $\frac{6-\sqrt{2}}{5}$



11. 그림과 같이  $\angle ABC = \frac{\pi}{2}$  인 삼각형 ABC 에 내접하고 반지름의 길이가 3인 원의 중심을 O 라 하자. 직선 AO 가 선분 BC 와 만나는 점을 D 라 할 때,  $\overline{DB} = 4$  이다. 삼각형 ADC 의 외접원의 넓이는? [4점][2020년 10월 가17]



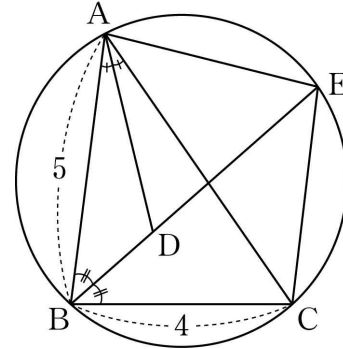
- ①  $\frac{125}{2}\pi$
- ②  $63\pi$
- ③  $\frac{127}{2}\pi$
- ④  $64\pi$
- ⑤  $\frac{129}{2}\pi$



$$\sin \theta = \frac{3}{\sqrt{10}}$$

$$2R = \frac{?}{\sin \theta} = \frac{?}{\frac{3}{\sqrt{10}}}$$

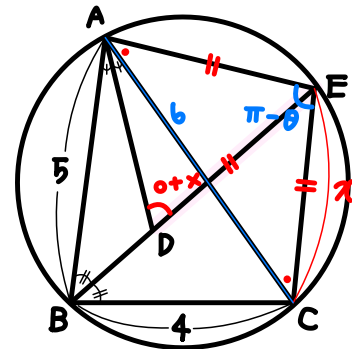
12. 그림과 같이  $\overline{AB} = 5$ ,  $\overline{BC} = 4$ ,  $\cos(\angle ABC) = \frac{1}{8}$  인 삼각형 ABC 가 있다.  $\angle ABC$  의 이등분선과  $\angle CAB$  의 이등분선이 만나는 점을 D, 선분 BD 의 연장선과 삼각형 ABC 의 외접원이 만나는 점을 E 라 할 때, <보기>에서 옳은 것만을 있는 대로 고른 것은? [4점][2021년 3월 15]



< 보 기 >

㉠.  $\overline{AC} = 6$   
 ㉡.  $\overline{EA} = \overline{EC}$   
 ㉢.  $\overline{ED} = \frac{31}{8}$

- ① ㉠
- ② ㉠, ㉡
- ③ ㉠, ㉢
- ④ ㉡, ㉢
- ⑤ ㉠, ㉡, ㉢



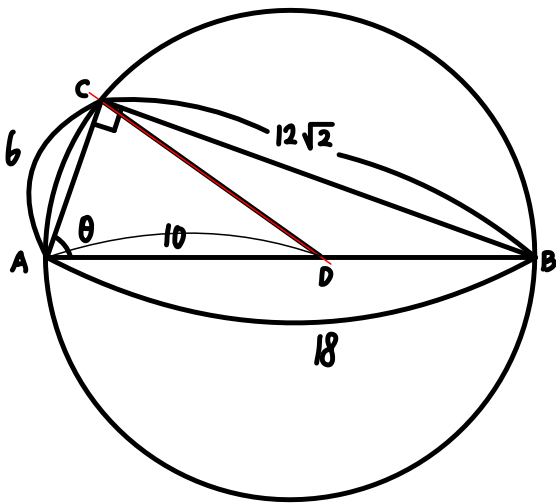
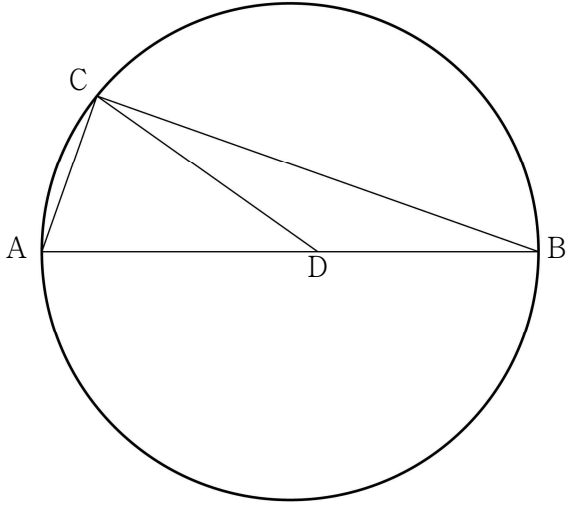
$$\cos \theta = \frac{1}{8}$$

- ㉠.  $\overline{AC} = 6$
- ㉡. O
- ㉢.  $x \leftarrow \text{cos 법칙}$

$$6^2 = 2x^2 - 2x^2 \times \cos(\pi - \theta)$$

$$= 2x^2 - 2x^2 \times \left(-\frac{1}{8}\right)$$

13. 그림과 같이 선분 AB를 지름으로 하는 원 위의 점 C에 대하여  $\overline{BC} = 12\sqrt{2}$ ,  $\cos(\angle CAB) = \frac{1}{3}$ 이다. 선분 AB를 5 : 4로 내분하는 점을 D라 할 때, 삼각형 CAD의 외접원의 넓이는 S이다.  $\frac{S}{\pi}$ 의 값을 구하시오. [4점][2021년 7월 20]



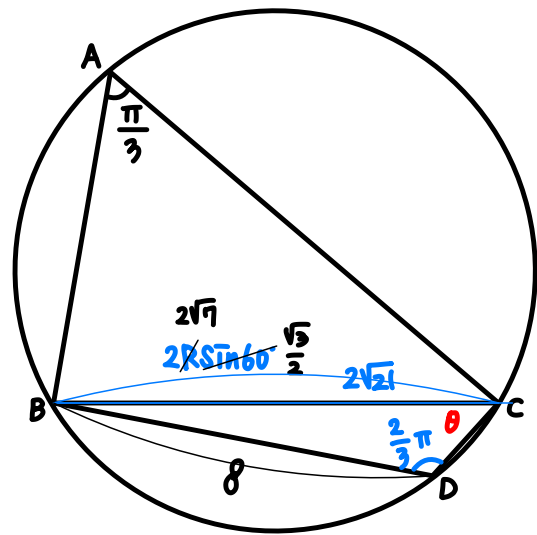
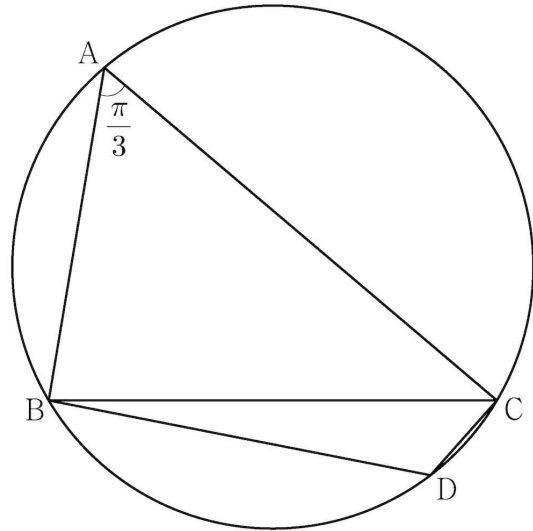
$$\cos\theta = \frac{1}{3}$$

$$2R = \frac{\overline{CD}}{\sin\theta} = \frac{\sqrt{8}}{\frac{1}{3}}$$

14. 반지름의 길이가  $2\sqrt{7}$ 인 원에 내접하고  $\angle A = \frac{\pi}{3}$ 인 삼각형 ABC가 있다. 점 A를 포함하지 않는 호 BC 위의 점 D에 대하여  $\sin(\angle BCD) = \frac{2\sqrt{7}}{7}$ 일 때,  $\overline{BD} + \overline{CD}$ 의 값은?

[4점][2021년 9월 12]

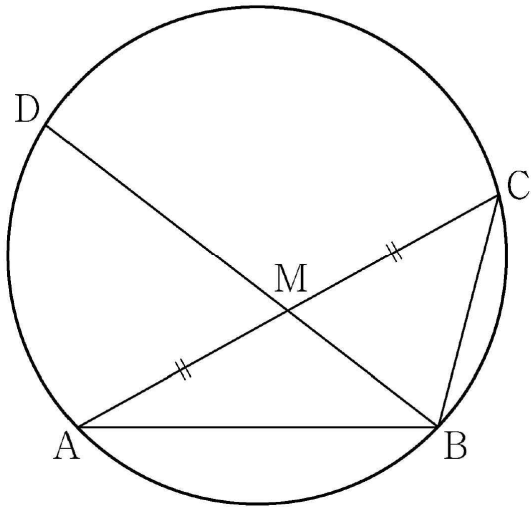
- ①  $\frac{19}{2}$
- ② 10
- ③  $\frac{21}{2}$
- ④ 11
- ⑤  $\frac{23}{2}$



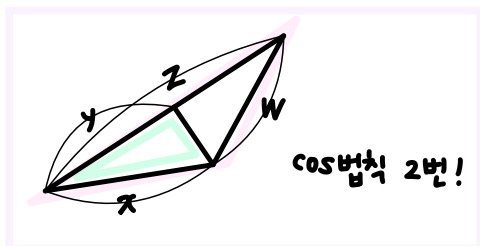
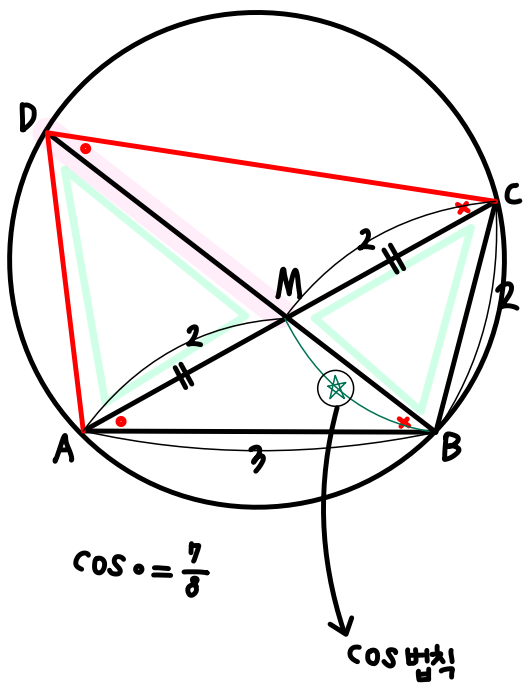
$$\sin\theta = \frac{2\sqrt{7}}{7} = \frac{2}{\sqrt{7}}$$

$$\overline{BD} + \overline{CD} = x + y = ? \begin{cases} 1. \cos \text{법칙} \\ 2. \frac{1}{2}xy\sin\theta \end{cases}$$

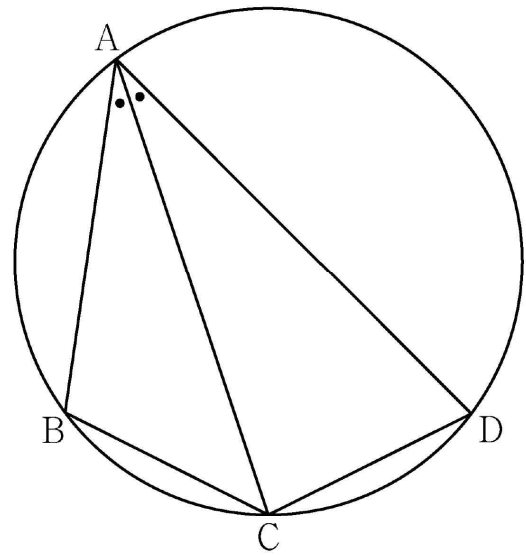
15. 그림과 같이  $\overline{AB}=3, \overline{BC}=2, \overline{AC}>3$ 이고  $\cos(\angle BAC) = \frac{7}{8}$ 인 삼각형 ABC가 있다. 선분 AC의 중점을 M, 삼각형 ABC의 외접원이 직선 BM과 만나는 점 중 B가 아닌 점을 D라 할 때, 선분 MD의 길이는? [4점][2022년 6월 공통10]



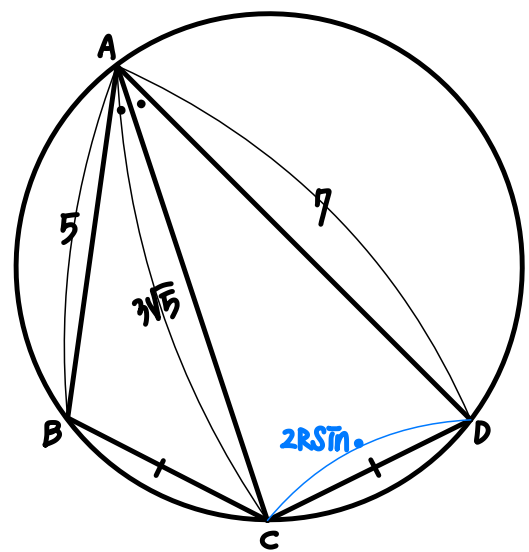
- ①  $\frac{3\sqrt{10}}{5}$
- ②  $\frac{7\sqrt{10}}{10}$
- ③  $\frac{4\sqrt{10}}{5}$
- ④  $\frac{9\sqrt{10}}{10}$
- ⑤  $\sqrt{10}$



16. 그림과 같이 사각형 ABCD가 한 원에 내접하고  $\overline{AB}=5, \overline{AC}=3\sqrt{5}, \overline{AD}=7, \angle BAC = \angle CAD$ 일 때, 이 원의 반지름의 길이는? [4점][2023학년도 수능 공통11]



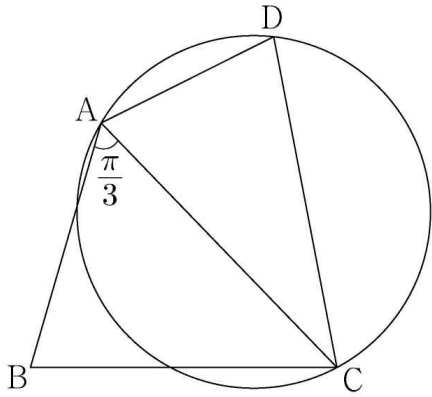
- ①  $\frac{5\sqrt{2}}{2}$
- ②  $\frac{8\sqrt{5}}{5}$
- ③  $\frac{5\sqrt{5}}{3}$
- ④  $\frac{8\sqrt{2}}{3}$
- ⑤  $\frac{9\sqrt{3}}{4}$



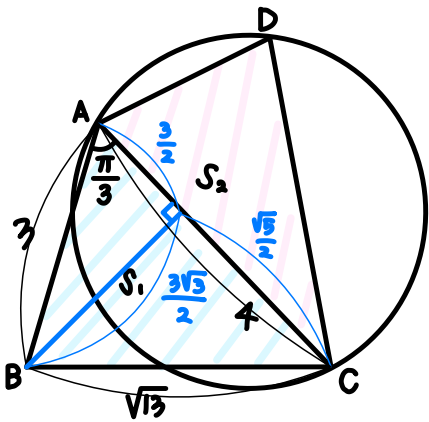
$$\begin{aligned}
 &= 49 + 45 - 42\sqrt{5} \cos \theta \\
 &= 25 + 45 - 30\sqrt{5} \cos \theta
 \end{aligned}$$



17. 그림과 같이  $\overline{AB}=3$ ,  $\overline{BC}=\sqrt{13}$ ,  $\overline{AD}\times\overline{CD}=9$ ,  $\angle BAC=\frac{\pi}{3}$ 인 사각형 ABCD가 있다. 삼각형 ABC의 넓이를  $S_1$ , 삼각형 ACD의 넓이를  $S_2$ 라 하고, 삼각형 ACD의 외접원의 반지름의 길이를  $R$ 이라 하자.  $S_2 = \frac{5}{6}S_1$ 일 때,  $\frac{R}{\sin(\angle ADC)}$ 의 값은? [4점][2024학년도 수능 공통13]



- ①  $\frac{54}{25}$
- ②  $\frac{117}{50}$
- ③  $\frac{63}{25}$
- ④  $\frac{27}{10}$
- ⑤  $\frac{72}{25}$



$$\overline{AC} = 4$$

$$\frac{\overline{AC}}{\sin \angle ADC} = 2R$$

$$\overline{AD} \times \overline{CD} = 9$$

$$S_2 = \frac{5}{6} S_1 = \frac{1}{2} \times 3 \times 4 \times \frac{\sqrt{3}}{2}$$

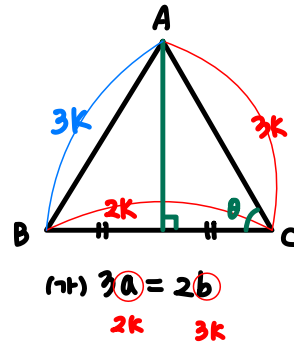
$$\frac{1}{2} \times 9 \times \sin \angle ADC$$

18. 다음 조건을 만족시키는 삼각형 ABC의 외접원의 넓이가  $9\pi$ 일 때, 삼각형 ABC의 넓이는? [4점][2024년 6월 공통10]

- (가)  $3\sin A = 2\sin B$   
 (나)  $\cos B = \cos C$

- ①  $\frac{32}{9}\sqrt{2}$
- ②  $\frac{40}{9}\sqrt{2}$
- ③  $\frac{16}{3}\sqrt{2}$
- ④  $\frac{56}{9}\sqrt{2}$
- ⑤  $\frac{64}{9}\sqrt{2}$

(나)  $\cos B = \cos C$   
 Same

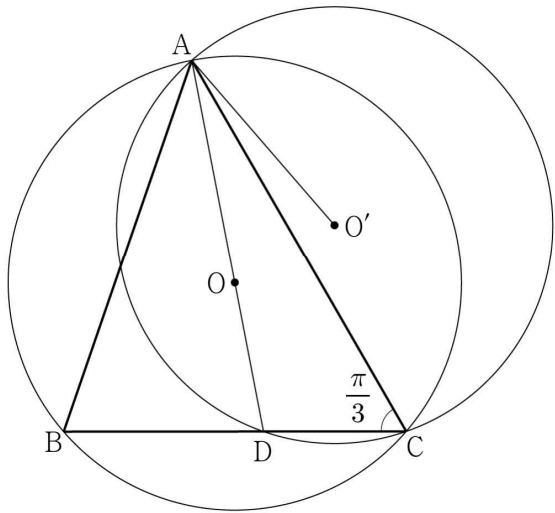


$$\sin \theta = \frac{\sqrt{8}}{3}$$

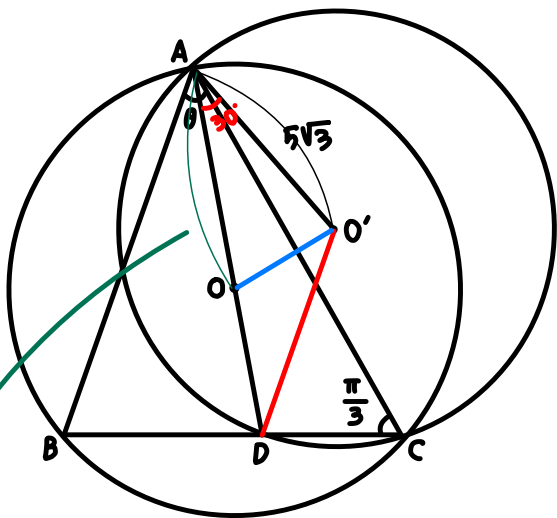
$$\frac{3k}{\sin \theta} = 2R$$

19. 그림과 같이  $\overline{BC} = \frac{36\sqrt{7}}{7}$ ,  $\sin(\angle BAC) = \frac{2\sqrt{7}}{7}$ ,

$\angle ACB = \frac{\pi}{3}$ 인 삼각형 ABC가 있다. 삼각형 ABC의 외접원의 중심을 O, 직선 AO가 변 BC와 만나는 점을 D라 하자. 삼각형 ADC의 외접원의 중심을 O'이라 할 때,  $\overline{AO'} = 5\sqrt{3}$ 이다.  $\overline{OO'}^2$ 의 값은? (단,  $0 < \angle BAC < \frac{\pi}{2}$ ) [4점][2024년 7월 공통 13]



- ① 21
- ②  $\frac{91}{4}$
- ③  $\frac{49}{2}$
- ④  $\frac{105}{4}$
- ⑤ 28

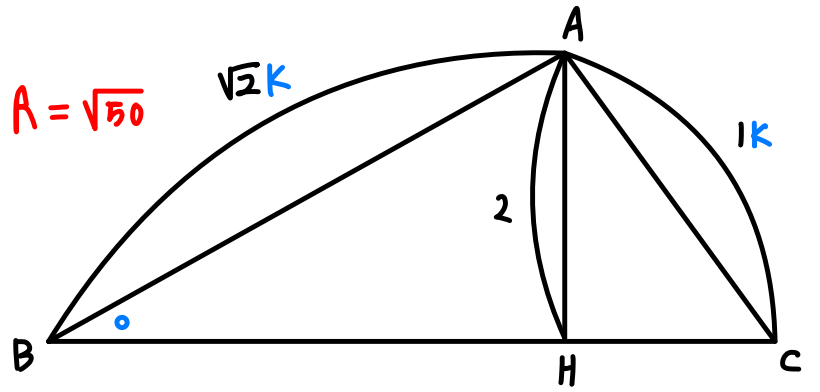


$$\frac{\frac{36}{\sqrt{7}}}{\frac{\sin \theta}{\frac{2}{\sqrt{7}}}} = 2R$$

20.  $\angle A > \frac{\pi}{2}$ 인 삼각형 ABC의 꼭짓점 A에서 선분 BC에

내린 수선의 발을 H라 하자.  $\overline{AB} : \overline{AC} = \sqrt{2} : 1$ ,  $\overline{AH} = 2$ 이고, 삼각형 ABC의 외접원의 넓이가  $50\pi$ 일 때, 선분 BH의 길이는? [4점][2024년 9월 공통10]

- ① 6
- ②  $\frac{25}{4}$
- ③  $\frac{13}{2}$
- ④  $\frac{27}{4}$
- ⑤ 7



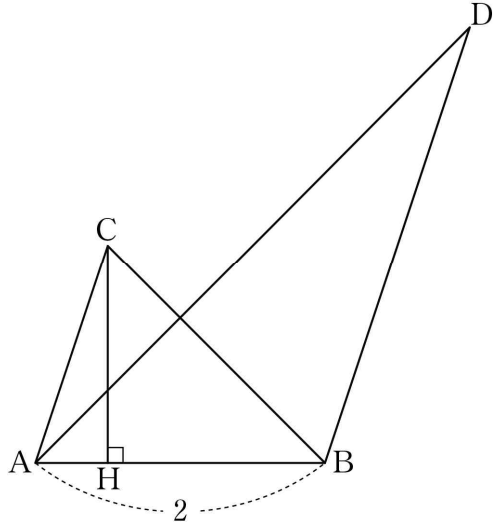
$$\sin \theta = \frac{2}{\sqrt{2}k}$$

$$k = \frac{2}{\sqrt{2} \sin \theta}$$

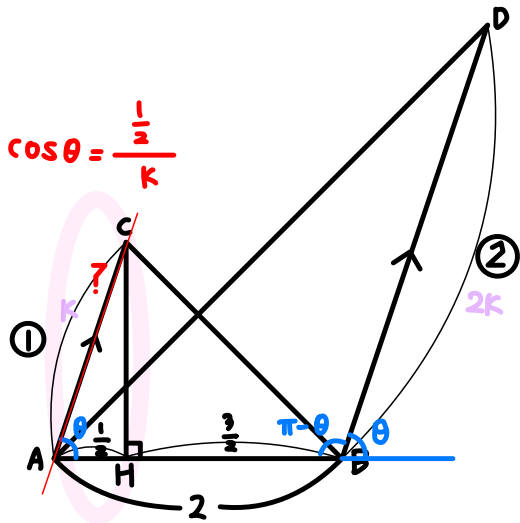
STEP 2 Hills

동의각, 엇각

21. 그림과 같이  $\overline{AB}=2$ ,  $\overline{AC} \parallel \overline{BD}$ ,  $\overline{AC}:\overline{BD}=1:2$ 인 두 삼각형 ABC, ABD가 있다. 점 C에서 선분 AB에 내린 수선의 발 H는 선분 AB를 1:3으로 내분한다.



두 삼각형 ABC, ABD의 외접원의 반지름의 길이를 각각  $r$ ,  $R$ 라 할 때,  $4(R^2 - r^2) \times \sin^2(\angle CAB) = 51$ 이다.  $\overline{AC}^2$ 의 값을 구하시오. (단,  $\angle CAB < \frac{\pi}{2}$ ) [4점][2021년 3월 21]



$$4(R^2 - r^2) \sin^2 \angle CAB = 51 = \overline{AD}^2 - \overline{BC}^2$$


---


$$4r^2 \sin^2 \theta = (2r \sin \theta)^2 = \overline{BC}^2$$

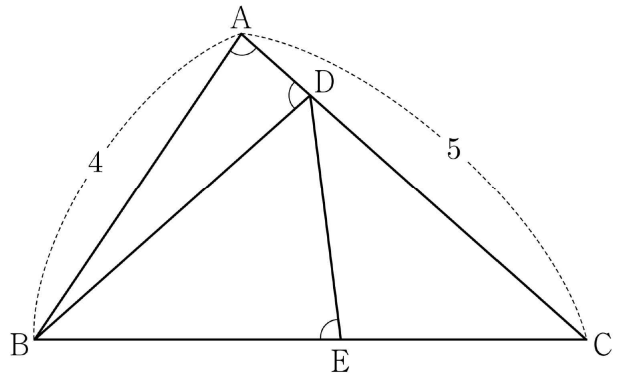
$$4R^2 \sin^2 \theta = \overline{AD}^2$$

$$\sin^2(\pi - \theta)$$

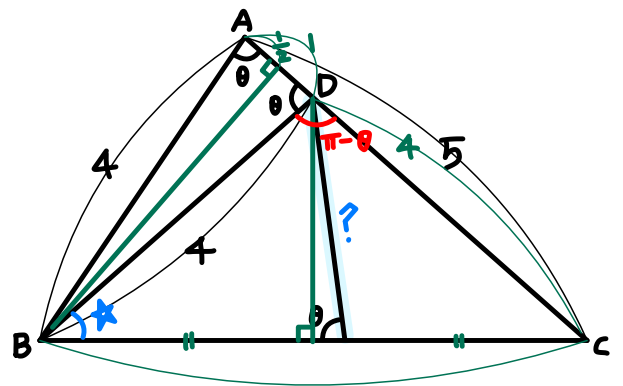
$$= 2^2 + (2k)^2 - 2 \times 2 \times 2k \times \cos(\pi - \theta)$$

$$= 2^2 + k^2 - 2 \times 2 \times k \times \cos \theta$$

22. 그림과 같이  $\overline{AB}=4$ ,  $\overline{AC}=5$ 이고  $\cos(\angle BAC) = \frac{1}{8}$ 인 삼각형 ABC가 있다. 선분 AC 위의 점 D와 선분 BC 위의 점 E에 대하여  $\angle BAC = \angle BDA = \angle BED$ 일 때, 선분 DE의 길이는? [4점][2021년 6월 12]



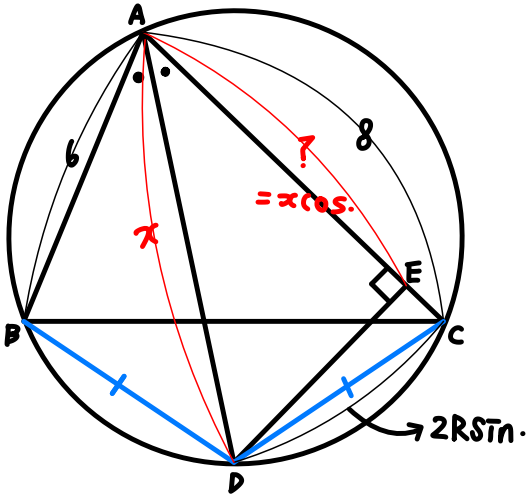
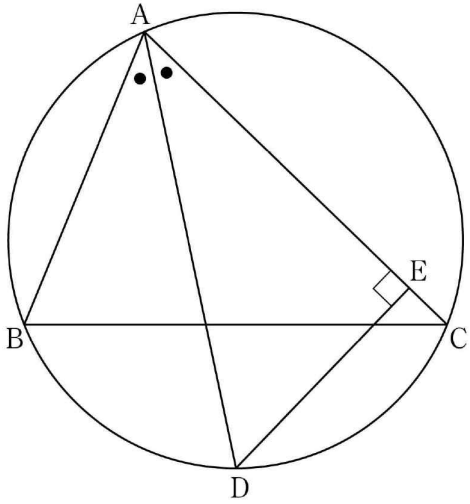
- ①  $\frac{7}{3}$
- ②  $\frac{5}{2}$
- ③  $\frac{8}{3}$
- ④  $\frac{17}{6}$
- ⑤ 3



$$\textcircled{1} \frac{4}{\sin \theta} \frac{\sqrt{63}}{8} = \frac{?}{\sin \theta}$$

$$\textcircled{2} \overline{BC}^2 = 32 + 32 \times \frac{1}{8} = 36$$

23.  $\overline{AB} = 6$ ,  $\overline{AC} = 8$ 인 예각삼각형 ABC에서  $\angle A$ 의 이등분선과 삼각형 ABC의 외접원이 만나는 점을 D, 점 D에서 선분 AC에 내린 수선의 발을 E라 하자. 선분 AE의 길이를  $k$ 라 할 때,  $12k$ 의 값을 구하시오. [4점][2021년 10월 21]



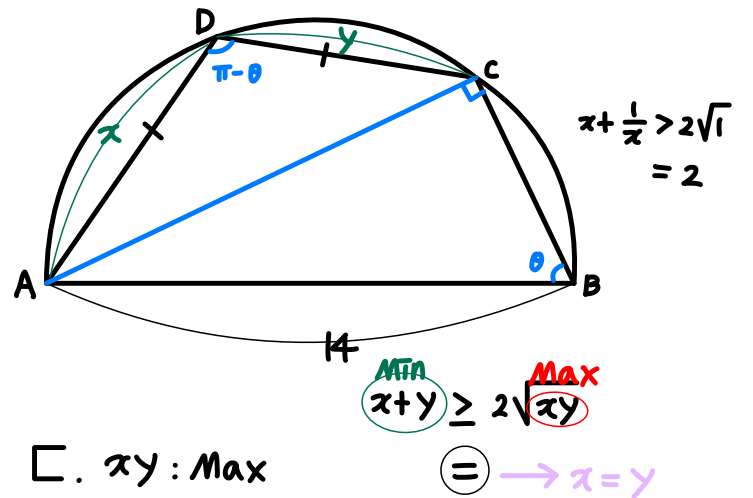
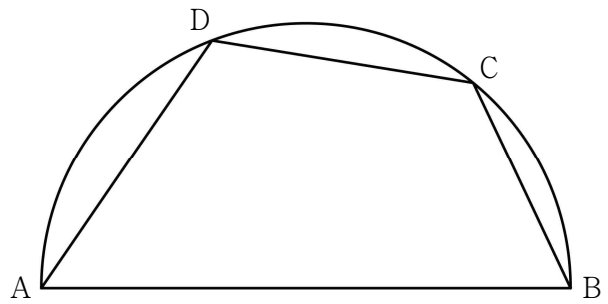
$$\begin{aligned} (2R\sin\alpha)^2 &= 64 + \frac{\overline{AD}^2}{x^2} - 2 \times 8 \times x \times \cos\alpha \\ &= 36 + x^2 - 2 \times 6 \times x \times \cos\alpha \end{aligned}$$

24. 길이가 14인 선분 AB를 지름으로 하는 반원의 호 AB 위에 점 C를  $\overline{BC} = 6$ 이 되도록 잡는다. 점 D가 호 AC 위의 점일 때, <보기>에서 옳은 것만을 있는 대로 고른 것은? (단, 점 D는 점 A와 점 C가 아닌 점이다.) [4점][2022년 7월 공통14]

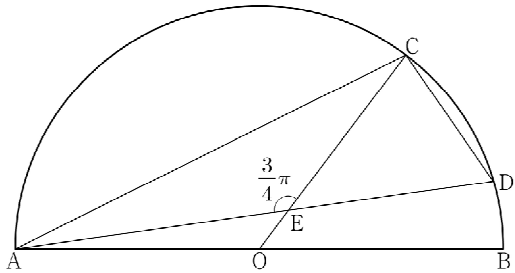
[보기]

- ㄱ.  $\sin(\angle CBA) = \frac{2\sqrt{10}}{7}$
- ㄴ.  $\overline{CD} = 7$ 일 때,  $\overline{AD} = -3 + 2\sqrt{30}$
- ㄷ. 사각형 ABCD의 넓이의 최댓값은  $20\sqrt{10}$ 이다.

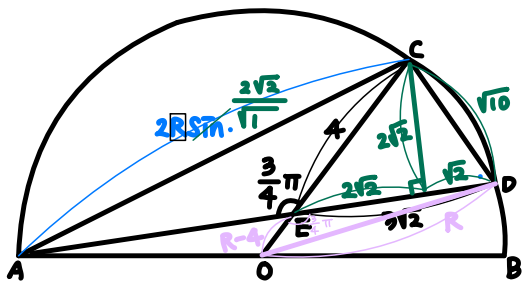
- ① ㄱ
- ② ㄱ, ㄴ
- ③ ㄱ, ㄷ
- ④ ㄴ, ㄷ
- ⑤ ㄱ, ㄴ, ㄷ



25. 그림과 같이 선분 AB를 지름으로 하는 반원의 호 AB 위에 두 점 C, D가 있다. 선분 AB의 중점 O에 대하여 두 선분 AD, CO가 점 E에서 만나고,  $\overline{CE}=4$ ,  $\overline{ED}=3\sqrt{2}$ ,  $\angle CEA = \frac{3}{4}\pi$ 이다.  $\overline{AC} \times \overline{CD}$ 의 값은? [4점][2022년 9월 공통 13]



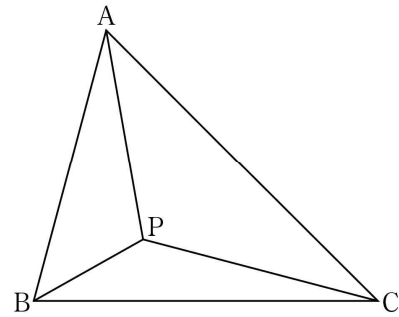
- ①  $6\sqrt{10}$
- ②  $10\sqrt{5}$
- ③  $16\sqrt{2}$
- ④  $12\sqrt{5}$
- ⑤  $20\sqrt{2}$



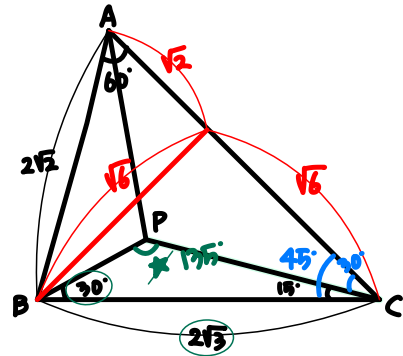
$\triangle ACD$   
내접  $\rightarrow$  사인법칙

$$R^2 = (R-4)^2 + (3\sqrt{2})^2 - 2(R-4)3\sqrt{2} \times \cos \frac{3}{4}\pi$$

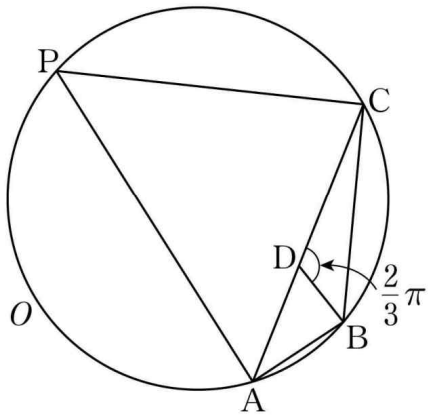
26. 그림과 같이  $\angle BAC = 60^\circ$ ,  $\overline{AB} = 2\sqrt{2}$ ,  $\overline{BC} = 2\sqrt{3}$ 인 삼각형 ABC가 있다. 삼각형 ABC의 내부의 점 P에 대하여  $\angle PBC = 30^\circ$ ,  $\angle PCB = 15^\circ$ 일 때, 삼각형 APC의 넓이는? [4점][2023년 3월 공통11]



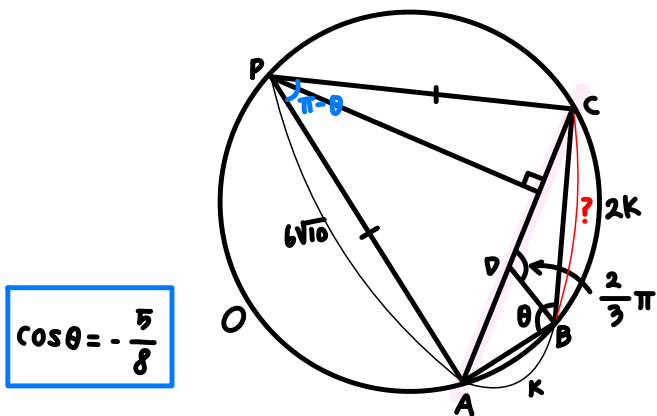
- ①  $\frac{3+\sqrt{3}}{4}$
- ②  $\frac{3+2\sqrt{3}}{4}$
- ③  $\frac{3+\sqrt{3}}{2}$
- ④  $\frac{3+2\sqrt{3}}{2}$
- ⑤  $2+\sqrt{3}$



27. 그림과 같이  $2\overline{AB} = \overline{BC}$ ,  $\cos(\angle ABC) = -\frac{5}{8}$  인 삼각형 ABC의 외접원을 O라 하자. 원 O 위의 점 P에 대하여 삼각형 PAC의 넓이가 최대가 되도록 하는 점 P를 Q라 할 때,  $\overline{QA} = 6\sqrt{10}$ 이다. 선분 AC 위의 점 D에 대하여  $\angle CDB = \frac{2}{3}\pi$ 일 때, 삼각형 CDB의 외접원의 반지름의 길이는?  
[4점][2024년 3월 공통13]



- ①  $3\sqrt{3}$
- ②  $4\sqrt{3}$
- ③  $3\sqrt{6}$
- ④  $5\sqrt{3}$
- ⑤  $4\sqrt{6}$

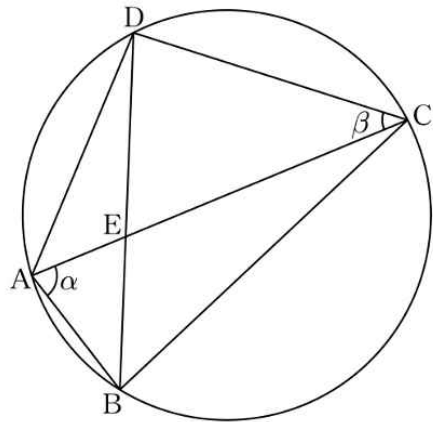


$$\cos \theta = -\frac{5}{8}$$

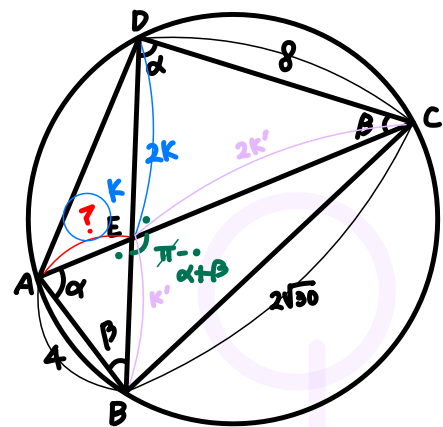
$$\frac{2K}{\sin \frac{2}{3}\pi} = 2R$$

$$\overline{AC}^2 = 720 + 720 \times \frac{5}{8}$$

28. 그림과 같이 한 원에 내접하는 사각형 ABCD에 대하여  $\overline{AB} = 4$ ,  $\overline{BC} = 2\sqrt{30}$ ,  $\overline{CD} = 8$ 이다.  $\angle BAC = \alpha$ ,  $\angle ACD = \beta$ 라 할 때,  $\cos(\alpha + \beta) = -\frac{5}{12}$ 이다. 두 선분 AC와 BD의 교점을 E라 할 때, 선분 AE의 길이는?  
(단,  $0 < \alpha < \frac{\pi}{2}$ ,  $0 < \beta < \frac{\pi}{2}$ ) [4점][2024년 10월 공통13]



- ①  $\sqrt{6}$
- ②  $\frac{\sqrt{26}}{2}$
- ③  $\sqrt{7}$
- ④  $\frac{\sqrt{30}}{2}$
- ⑤  $2\sqrt{2}$



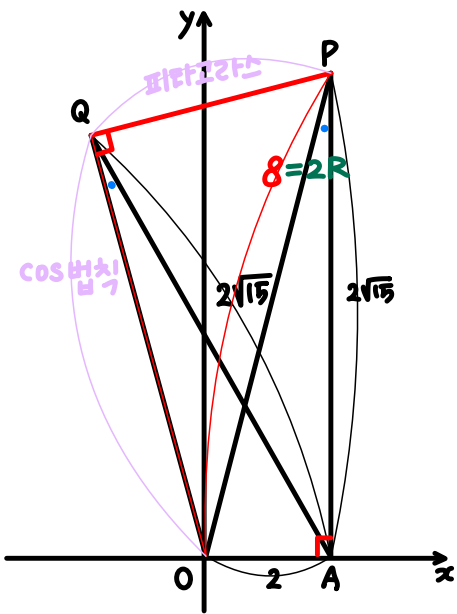
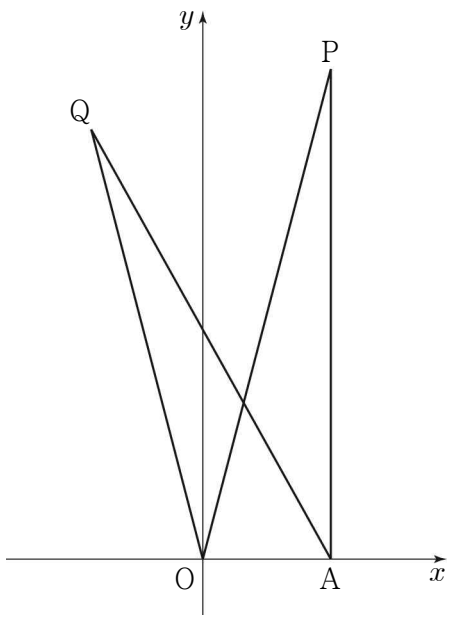
$\cos \rightarrow K'$

STEP 3 Mountains

29. 좌표평면 위의 두 점  $O(0, 0)$ ,  $A(2, 0)$ 과  $y$ 좌표가 양수인 서로 다른 두 점  $P, Q$ 가 다음 조건을 만족시킨다.

(가)  $\overline{AP} = \overline{AQ} = 2\sqrt{15}$  이고  $\overline{OP} > \overline{OQ}$ 이다.  
 (나)  $\cos(\angle OPA) = \cos(\angle OQA) = \frac{\sqrt{15}}{4}$

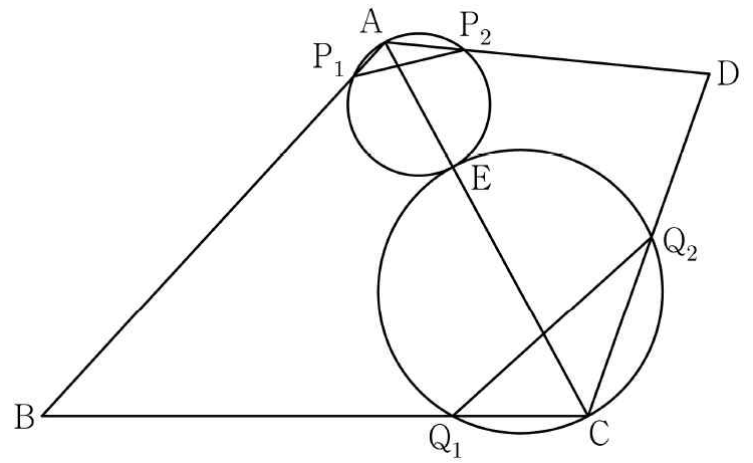
사각형  $OAPQ$ 의 넓이가  $\frac{q}{p}\sqrt{15}$ 일 때,  $p \times q$ 의 값을 구하시오.  
 (단,  $p$ 와  $q$ 는 서로소인 자연수이다.) [4점] [2023년 4월 공통21]



$\cos \cdot = \frac{\sqrt{15}}{4}$

30. 그림과 같이

$\overline{BC} = 3$ ,  $\overline{CD} = 2$ ,  $\cos(\angle BCD) = -\frac{1}{3}$ ,  $\angle DAB > \frac{\pi}{2}$ 인 사각형  $ABCD$ 에서 두 삼각형  $ABC$ 와  $ACD$ 는 모두 예각삼각형이다. 선분  $AE$ 를 1:2로 내분하는 점  $E$ 에 대하여 선분  $AE$ 를 지름으로 하는 원이 두 선분  $AB, AD$ 와 만나는 점 중  $A$ 가 아닌 점을 각각  $P_1, P_2$ 라 하고, 선분  $CE$ 를 지름으로 하는 원이 두 선분  $BC, CD$ 와 만나는 점 중  $C$ 가 아닌 점을 각각  $Q_1, Q_2$ 라 하자.  $\overline{P_1P_2} : \overline{Q_1Q_2} = 3 : 5\sqrt{2}$ 이고 삼각형  $ABD$ 의 넓이가 2일 때,  $\overline{AB} + \overline{AD}$ 의 값은? (단,  $\overline{AB} > \overline{AD}$ ) [4점] [2023년 6월 공통13]

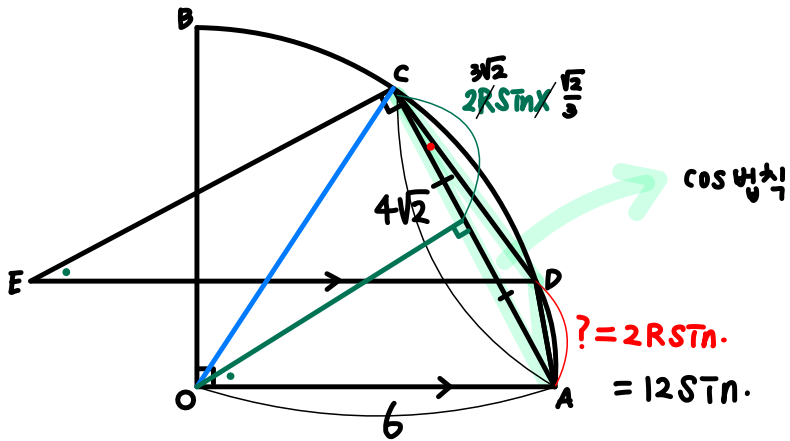
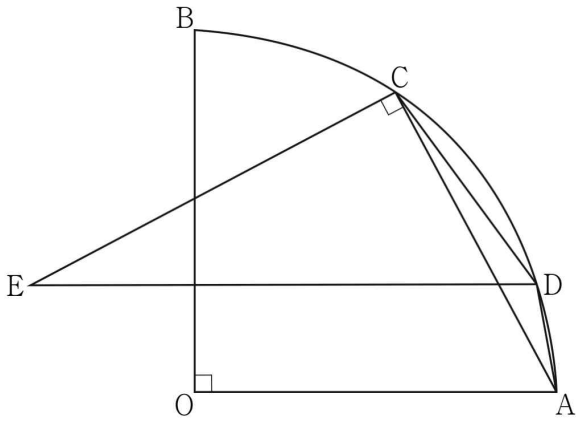


- ①  $\sqrt{21}$
- ②  $\sqrt{22}$
- ③  $\sqrt{23}$
- ④  $2\sqrt{6}$
- ⑤ 5

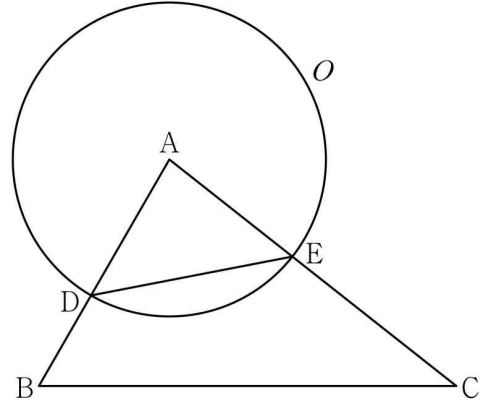




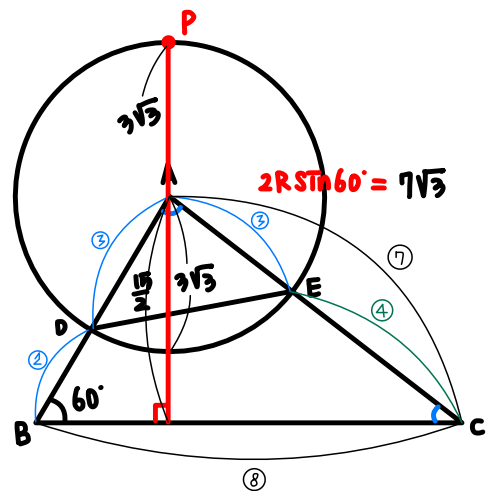
33. 그림과 같이 중심이 O, 반지름의 길이가 6이고 중심각의 크기가  $\frac{\pi}{2}$ 인 부채꼴 OAB가 있다. 호 AB 위에 점 C를  $\overline{AC} = 4\sqrt{2}$ 가 되도록 잡는다. 호 AC 위의 한 점 D에 대하여 점 D를 지나고 선분 OA에 평행한 직선과 점 C를 지나고 선분 AC에 수직인 직선이 만나는 점을 E라 하자. 삼각형 CED의 외접원의 반지름의 길이가  $3\sqrt{2}$ 일 때,  $\overline{AD} = p + q\sqrt{7}$ 을 만족시키는 두 유리수 p, q에 대하여  $9 \times |p \times q|$ 의 값을 구하시오. (단, 점 D는 점 A도 아니고 점 C도 아니다.) [4점][2024년 5월 공통21]



34. 그림과 같이 삼각형 ABC에서 선분 AB 위에  $\overline{AD} : \overline{DB} = 3 : 2$ 인 점 D를 잡고, 점 A를 중심으로 하고 점 D를 지나는 원을 O, 원 O와 선분 AC가 만나는 점을 E라 하자.  $\sin A : \sin C = 8 : 5$ 이고, 삼각형 ADE와 삼각형 ABC의 넓이의 비가  $9 : 35$ 이다. 삼각형 ABC의 외접원의 반지름의 길이가 7일 때, 원 O 위의 점 P에 대하여 삼각형 PBC의 넓이의 최댓값은? (단,  $\overline{AB} < \overline{AC}$ ) [4점][2025학년도 수능 공통14]



- ①  $18 + 15\sqrt{3}$
- ②  $24 + 20\sqrt{3}$
- ③  $30 + 25\sqrt{3}$
- ④  $36 + 30\sqrt{3}$
- ⑤  $42 + 35\sqrt{3}$



$\triangle ABC$ 의  $R=7$

$$\sin A : \sin C = 8 : 5 \implies \frac{8 \sin C}{\sin A} = \frac{5 \sin A}{\sin C}$$

$$\triangle ADE : \triangle ABC = 9 : 35$$

$$\frac{1}{2} \sin A$$

$$\cos B = \frac{25 + 64 - 49}{2 \times 7 \times 8}$$



1. ④

$$\text{사인법칙에 의해 } \frac{5}{\sin\theta} = 2 \times 4$$

$$\sin\theta = \frac{5}{8}$$

2. ④

부채꼴 OAB의 반지름의 길이를  $r$ 이라 하면

$$\overline{OP} = \frac{3}{4}r, \overline{OQ} = \frac{1}{3}r$$

삼각형 OPQ의 넓이가  $4\sqrt{3}$ 이므로

$$\frac{1}{2} \times \frac{3}{4}r \times \frac{1}{3}r \times \sin\frac{\pi}{3} = \frac{\sqrt{3}}{16}r^2 = 4\sqrt{3}, r = 8$$

$$\text{따라서 호의 길이는 } 8 \times \frac{\pi}{3} = \frac{8}{3}\pi$$

3. ⑤

삼각형 ABD에서 코사인법칙에 의하여

$$\cos A = \frac{6^2 + 6^2 - \{\sqrt{15}\}^2}{2 \times 6 \times 6} = \frac{57}{72}$$

이므로 삼각형 ABC에서 코사인법칙에 의하여

$$\begin{aligned} \overline{BC}^2 &= \overline{AB}^2 + \overline{CA}^2 - 2 \times \overline{AB} \times \overline{CA} \times \cos A \\ &= 6^2 + 10^2 - 2 \times 6 \times 10 \times \frac{57}{72} \\ &= 36 + 100 - 95 = 41 \end{aligned}$$

$$\text{따라서 } \overline{BC} = \sqrt{41}$$

4. ②

$\overline{AB} = 3a, \overline{AC} = a$ 라 하면

$$\overline{BC}^2 = 9a^2 + a^2 - 2 \cdot 3a \cdot a \cos\frac{\pi}{3} = 7a^2$$

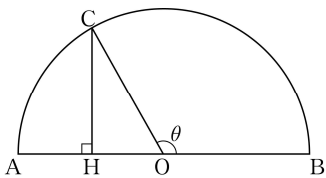
$$\therefore \overline{BC} = \sqrt{7}a$$

$$\frac{\overline{BC}}{\sin\frac{\pi}{3}} = \frac{\sqrt{7}a}{\frac{\sqrt{3}}{2}} = \frac{2\sqrt{7}a}{\sqrt{3}} = 2 \times 7$$

$$a = \sqrt{21} = \overline{AC}$$

5. 27

[출제의도] 호도법을 이해하여 주어진 도형에서 선분의 길이를 구한다.



반원의 중심을 O라 하면 반원의 지름의 길이가 12이므로

$\overline{OB} = 6$ 이다.

$\angle COB = \theta$ 라 하면 호 BC의 길이가  $4\pi$ 이므로

$$6 \times \theta = 4\pi, \theta = \frac{2}{3}\pi$$

점 C에서 선분 AB에 내린 수선의 발을 H라 하면

$$\angle COH = \pi - \theta = \frac{\pi}{3}$$

삼각형 CHO는 직각삼각형이고  $\overline{OC} = 6$ 이므로

$$\overline{CH} = \overline{OC} \times \sin\frac{\pi}{3} = 6 \times \frac{\sqrt{3}}{2} = 3\sqrt{3}$$

$$\text{따라서 } \overline{CH}^2 = (3\sqrt{3})^2 = 27$$

6. ②

[출제의도] 삼각함수의 성질을 이해하여 주어진 조건을 만족시키는 값을 구한다.

삼각형 ABC의 외접원의 반지름의 길이가  $3\sqrt{5}$ 이므로 사인법칙에 의해

$$\frac{10}{\sin C} = 2 \times 3\sqrt{5}, \sin C = \frac{\sqrt{5}}{3}$$

삼각형 ABC는 예각삼각형이므로

$$\cos C = \sqrt{1 - \sin^2 C} = \frac{2}{3}$$

$$\frac{a^2 + b^2 - ab \cos C}{ab} = \frac{4}{3} \text{에서 } \frac{a^2 + b^2 - \frac{2}{3}ab}{ab} = \frac{4}{3}$$

$$3a^2 + 3b^2 - 2ab = 4ab, 3(a-b)^2 = 0 \text{이므로 } a = b$$

코사인법칙에 의해

$$10^2 = a^2 + b^2 - 2ab \cos C = a^2 + a^2 - 2a^2 \times \frac{2}{3} = \frac{2}{3}a^2,$$

$$100 = \frac{2}{3}a^2, a^2 = 150$$

$$\text{따라서 } ab = a^2 = 150$$

7. 63

[출제의도] 코사인법칙을 이용하여 삼각형의 넓이 구하는 문제를 해결한다.

$\angle BAD$ 와  $\angle BCD$ 는 같은 호에 대한 원주각이므로 그 크기가 같다.

$\angle BAD = \angle BCD = \theta, \overline{AD} = a, \overline{CB} = b$ 라 하면

삼각형 ABD의 넓이  $S_1$ 은

$$S_1 = \frac{1}{2} \times \overline{AB} \times \overline{AD} \times \sin\theta = \frac{1}{2} \times 6 \times a \times \sin\theta = 3a \sin\theta$$

삼각형 CBD의 넓이  $S_2$ 는

$$S_2 = \frac{1}{2} \times \overline{CB} \times \overline{CD} \times \sin\theta = \frac{1}{2} \times b \times 4 \times \sin\theta = 2b \sin\theta$$

$$S_1 : S_2 = 9 : 5 \text{이므로 } 3a : 2b = 9 : 5$$

$a : b = 6 : 5$ 이므로  $a = 6k, b = 5k (k > 0)$ 라고 하자.

삼각형 ABC에서 코사인법칙에 의해

$$\overline{AC}^2 = 6^2 + (5k)^2 - 2 \times 6 \times 5k \times \cos\alpha \dots\dots \textcircled{7}$$

$\angle ABC$ 와  $\angle ADC$ 는 같은 호에 대한 원주각이므로

$$\angle ABC = \angle ADC = \alpha$$

삼각형 ADC에서 코사인법칙에 의하여

$$\overline{AC}^2 = (6k)^2 + 4^2 - 2 \times 6k \times 4 \times \cos\alpha \dots\dots \textcircled{8}$$

⑦, ⑧을 연립하면

$$11k^2 + 9k - 20 = 0, (11k + 20)(k - 1) = 0$$

$$k > 0 \text{이므로 } k = 1 \text{이고 } a = 6k = 6$$

$$\sin \alpha = \sqrt{1 - \cos^2 \alpha} = \sqrt{1 - \left(\frac{3}{4}\right)^2} = \frac{\sqrt{7}}{4}$$

삼각형 ADC의 넓이 S는

$$S = \frac{1}{2} \times \overline{AD} \times \overline{CD} \times \sin \alpha = \frac{1}{2} \times 6 \times 4 \times \frac{\sqrt{7}}{4} = 3\sqrt{7}$$

$$\text{따라서 } S^2 = (3\sqrt{7})^2 = 63$$

8. ③

[출제의도] 코사인법칙을 이용하여 문제를 해결한다.

$\overline{BC} = 2\sqrt{5}$ ,  $\overline{OB} = \overline{OC} = \sqrt{10}$  이므로 삼각형 OBC는

직각이등변삼각형이고  $\angle BOC = \frac{\pi}{2}$  이다.

$\angle AOB = \alpha$ ,  $\angle AOC = \beta$ 라 하면

두 삼각형 OAB, OCA의 넓이  $S_1, S_2$ 는 각각

$$S_1 = \frac{1}{2} \times (\sqrt{10})^2 \times \sin \alpha = 5 \sin \alpha$$

$$S_2 = \frac{1}{2} \times (\sqrt{10})^2 \times \sin \beta = 5 \sin \beta$$

주어진 조건에서  $3S_1 = 4S_2$ 이므로

$$\sin \alpha = \frac{4}{3} \sin \beta$$

$$\alpha + \beta + \frac{\pi}{2} = 2\pi \text{ 이므로 } \beta = \frac{3}{2}\pi - \alpha$$

$$\sin \alpha = \frac{4}{3} \sin \left(\frac{3}{2}\pi - \alpha\right) = -\frac{4}{3} \cos \alpha \quad \cdots \cdots \textcircled{1}$$

$$\sin^2 \alpha + \cos^2 \alpha = 1 \text{ 에서 } \frac{16}{9} \cos^2 \alpha + \cos^2 \alpha = 1$$

$$\cos^2 \alpha = \frac{9}{25}$$

$\sin \alpha > 0$ 이므로  $\textcircled{1}$ 에서  $\cos \alpha < 0$

$$\text{따라서 } \cos \alpha = -\frac{3}{5}$$

코사인법칙에 의하여 구하는 선분 AB의 길이는

$$\begin{aligned} \overline{AB} &= \sqrt{(\overline{OA})^2 + (\overline{OB})^2 - 2 \times \overline{OA} \times \overline{OB} \cos \alpha} \\ &= \sqrt{(\sqrt{10})^2 + (\sqrt{10})^2 - 2(\sqrt{10})^2 \times \left(-\frac{3}{5}\right)} \\ &= 4\sqrt{2} \end{aligned}$$

9. ①

원 C의 반지름의 길이를 R라 하면

원 C의 넓이가  $\frac{49}{3}\pi$ 이므로

$$R^2 \pi = \frac{49}{3} \pi, \quad R = \frac{7}{3} \sqrt{3}$$

삼각형 ABC에서 사인법칙에 의해

$$\frac{\overline{BC}}{\sin \frac{\pi}{3}} = 2R, \quad \overline{BC} = 2 \times \frac{7}{3} \sqrt{3} \times \frac{\sqrt{3}}{2} = 7$$

삼각형 ABC에서  $\overline{AC} = a$ 라 하면 코사인법칙에 의해

$$7^2 = a^2 + 3^2 - 2 \times a \times 3 \times \cos \frac{\pi}{3}$$

$$a^2 = 3a - 40 = 0, \quad (a-8)(a+5) = 0$$

$a > 0$ 이므로  $a = 8$

$\overline{AC} = 8$ 이고 삼각형 ABC에서 코사인법칙에 의해

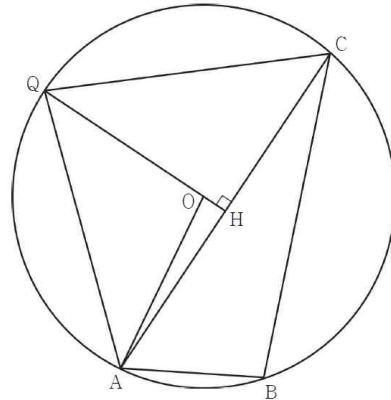
$$\cos(\angle CBA) = \frac{3^2 + 7^2 - 8^2}{2 \times 3 \times 7} = -\frac{1}{7}$$

이므로  $\frac{\pi}{2} < \angle CBA < \pi$ 가 되어 삼각형 ABC는 둔각삼각형이다.

삼각형 PAC의 넓이가 최대가 되도록 하는 점을 Q라 하면

점 Q는 선분 AC의 수직이등분선과 원 C의 두 교점 중 직선 AC로부터 멀리 떨어져 있는 점이다.

그림과 같이 점 Q에서 선분 AC에 내린 수선의 발을 H라 하면 원 C의 중심 O는 선분 QH 위에 있다.



직각삼각형 AHO에서

$$\overline{OH} = \sqrt{\left(\frac{7}{3} \sqrt{3}\right)^2 - 4^2} = \frac{\sqrt{3}}{3}$$

$\overline{QH} = \frac{8}{3} \sqrt{3}$ 이므로 삼각형 PAC의 넓이의 최댓값은

$$\frac{1}{2} \times 8 \times \frac{8}{3} \sqrt{3} = \frac{32}{3} \sqrt{3}$$

10. ①

[출제의도] 사인법칙과 코사인법칙을 이용하여 외접원의 반지름의 길이를 구한다.

주어진 원이 삼각형 BCD의 외접원이고 반지름의 길이가 r이므로 사인법칙에 의하여

$$\overline{CD} = 2r \sin \theta = \frac{2\sqrt{3}}{3} r, \quad \overline{BC} = 2r \sin \frac{\pi}{3} = \sqrt{3} r$$

삼각형 BCD에서 코사인법칙에 의하여

$$(\sqrt{3} r)^2 = (\sqrt{2})^2 + \left(\frac{2\sqrt{3}}{3} r\right)^2 - 2 \times \sqrt{2} \times \left(\frac{2\sqrt{3}}{3} r\right) \times \cos \frac{\pi}{3}$$

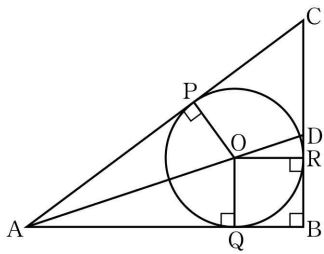
이 식을 정리하면  $5r^2 + 2\sqrt{6}r - 6 = 0$

$$\text{그러므로 } r = \frac{-\sqrt{6} \pm 6}{5}$$

$$\text{따라서 } r > 0 \text{이므로 } r = \frac{6 - \sqrt{6}}{5}$$

11. ①

[출제의도] 사인법칙을 이용하여 삼각형의 외접원의 넓이를 구한다.



삼각형 ABC에 내접하는 원이 세 선분 CA, AB, BC와 만나는 점을 각각 P, Q, R라 하자.

$$\overline{OQ} = \overline{OR} = 3 \text{ 이므로 } \overline{DR} = \overline{DB} - \overline{RB} = 1$$

$$\overline{DO} = \sqrt{3^2 + 1^2} = \sqrt{10} \text{ 이므로}$$

$$\sin(\angle DOR) = \frac{1}{\sqrt{10}} = \frac{\sqrt{10}}{10}$$

삼각형 DOR와 삼각형 OAQ는 닮음비가 1:3이므로

$$\overline{AQ} = 3 \times \overline{OR} = 9$$

이때 점 O가 삼각형 ABC의 내심이므로

$$\overline{PA} = \overline{AQ} = 9, \angle CAD = \angle DAB$$

$$\overline{AB} : \overline{AC} = \overline{BD} : \overline{DC}, 12 : (9 + \overline{CP}) = 4 : (\overline{CR} - 1)$$

$$9 + \overline{CP} = 3(\overline{CR} - 1)$$

이때  $\overline{CP} = \overline{CR}$  이므로  $\overline{CR} = 6$ , 즉  $\overline{CD} = 5$

직선 OR와 직선 AB가 평행하므로

$$\angle DAB = \angle DOR, \text{ 즉 } \angle CAD = \angle DOR$$

삼각형 ADC의 외접원의 반지름의 길이를 R라 하면 사인법칙에

$$\text{의하여 } 2R = \frac{\overline{CD}}{\sin(\angle CAD)} = 5\sqrt{10}$$

$$R = \frac{5\sqrt{10}}{2} \text{ 이므로 삼각형 ADC의 외접원의 넓이는 } \frac{125}{2}\pi \text{ 이다.}$$

12. ㉔

[출제의도] 코사인법칙을 이용하여 도형의 성질을 추론한다.

$\angle ABC = \theta$ 라 하자.

ㄱ. 삼각형 ABC에서 코사인법칙을 이용하면

$$\overline{AC}^2 = \overline{AB}^2 + \overline{BC}^2 - 2 \times \overline{AB} \times \overline{BC} \times \cos \theta$$

$$\text{이므로 } \overline{AC}^2 = 5^2 + 4^2 - 2 \times 5 \times 4 \times \frac{1}{8} = 36$$

그러므로  $\overline{AC} = 6$  (참)

ㄴ. 호 EA에 대한 원주각의 크기는 서로 같으므로  $\angle ACE = \angle ABE$

호 CE에 대한 원주각의 크기는 서로 같으므로  $\angle EAC = \angle EBC$

한편,  $\angle ABE = \angle EBC$  이므로  $\angle ACE = \angle EAC$

그러므로 삼각형 EAC는  $\overline{EA} = \overline{EC}$  인 이등변삼각형이다. (참)

ㄷ. 삼각형 ABD에서  $\angle ADE = \angle DAB + \angle ABD$

한편,  $\angle DAB = \angle CAD$ ,  $\angle ABD = \angle EBC$

그러므로  $\angle ADE = \angle CAD + \angle EBC$

$$= \angle CAD + \angle EAC$$

$$= \angle EAD$$

즉, 삼각형 EAD는  $\overline{EA} = \overline{ED}$  인 이등변삼각형이다. 삼각형

EAC에서 코사인법칙을 이용하면

$$\overline{AC}^2 = \overline{EA}^2 + \overline{EC}^2 - 2 \times \overline{EA} \times \overline{EC} \times \cos(\pi - \theta) \text{ 이고}$$

ㄴ에서  $\overline{EA} = \overline{EC}$  이므로

$$36 = 2 \times \overline{EA}^2 - 2 \times \overline{EA}^2 \times \left(-\frac{1}{8}\right), \overline{EA} = 4$$

그러므로  $\overline{EA} = \overline{ED}$  에서  $\overline{ED} = 4$  (거짓)

따라서 옳은 것은 ㄱ, ㄴ이다.

13. 27

[출제의도] 삼각함수를 활용하여 문제해결하기

선분 AB는 삼각형 ABC의 외접원의 지름이므로 삼각형 ABC는 직각삼각형이다.

$$\angle BCA = \frac{\pi}{2}, \angle CAB = \alpha \text{ 라 하면}$$

$$\cos \alpha = \frac{1}{3} \text{ 이고, } \sin^2 \alpha = 1 - \cos^2 \alpha = \frac{8}{9} \text{ 이므로}$$

$$\sin \alpha = \frac{2\sqrt{2}}{3}$$

$$\overline{BC} = \overline{AB} \times \sin \alpha \text{ 이므로 } \overline{AB} = 18 \text{ 이고, } \overline{AC} = 6$$

점 D는 선분 AB를 5:4로 내분하는 점이므로

$$\overline{AD} = 10$$

삼각형 CAD에서 코사인법칙에 의하여

$$\overline{DC}^2 = 6^2 + 10^2 - 2 \times 6 \times 10 \times \cos \alpha = 96$$

$$\overline{DC} = \sqrt{96} = 4\sqrt{6}$$

삼각형 CAD의 외접원의 반지름의 길이를 R라 하면,

사인법칙에 의하여

$$\frac{\overline{DC}}{\sin \alpha} = 2R \text{ 에서 } R = 3\sqrt{3}$$

삼각형 CAD의 외접원의 넓이  $S = 27\pi$

$$\text{따라서 } \frac{S}{\pi} = 27$$

14. ㉔

[출제의도] 사인법칙과 코사인법칙을 이용하여 삼각형의 변의 길이를 구할 수 있는가?

삼각형 ABC의 외접원의 반지름의 길이가  $2\sqrt{7}$  이므로

사인법칙에 의하여

$$\frac{\overline{BC}}{\sin(\angle BAC)} = 4\sqrt{7}$$

즉,

$$\overline{BC} = \sin \frac{\pi}{3} \times 4\sqrt{7} = \frac{\sqrt{3}}{2} \times 4\sqrt{7} = 2\sqrt{21}$$

또, 삼각형 BCD의 외접원의 반지름의 길이도  $2\sqrt{7}$  이므로

삼각형 BCD에서 사인법칙에 의하여

$$\frac{\overline{BD}}{\sin(\angle BCD)} = 4\sqrt{7}$$

즉,

$$\overline{BD} = \sin(\angle BCD) \times 4\sqrt{7} = \frac{2\sqrt{7}}{7} \times 4\sqrt{7} = 8$$

한편,  $\angle BDC = \pi - \angle BAC = \frac{2}{3}\pi$  이므로

$\overline{CD} = x$  라 하면 삼각형 BCD에서 코사인법칙에 의하여

$$(2\sqrt{21})^2 = x^2 + 8^2 - 2 \times x \times 8 \times \cos \frac{2}{3}\pi$$

$$x^2 + 8x - 20 = 0$$

$$(x-2)(x+10) = 0$$

$x > 0$  이므로  $x = 2$

즉,  $\overline{CD} = 2$

따라서  $\overline{BD} + \overline{CD} = 8 + 2 = 10$

15. ③

[출제의도] 코사인법칙을 이용하여 변의 길이를 구할 수 있는가?

$\angle BAC = \theta$ ,  $\overline{AC} = a$ 라 하면 삼각형  $\triangle ABC$ 에서 코사인법칙에 의하여

$$\overline{BC}^2 = \overline{AB}^2 + \overline{AC}^2 - 2 \times \overline{AB} \times \overline{AC} \times \cos \theta$$

즉,

$$2^2 = 3^2 + a^2 - 2 \times 3 \times a \times \frac{7}{8}$$

$$a^2 - \frac{21}{4}a + 5 = 0$$

$$4a^2 - 21a + 20 = 0$$

$$(4a - 5)(a - 4) = 0$$

따라서 조건에서  $a > 3$ 이므로  $a = 4$

같은 방법으로 삼각형  $ABM$ 에서 코사인법칙에 의하여

$$\overline{MB}^2 = \overline{AB}^2 + \overline{AM}^2 - 2 \times \overline{AB} \times \overline{AM} \times \cos \theta$$

$$= 3^2 + 2^2 - 2 \times 3 \times 2 \times \frac{7}{8} = \frac{5}{2}$$

이므로

$$\overline{MB} = \sqrt{\frac{5}{2}} = \frac{\sqrt{10}}{2}$$

이때 두 삼각형  $ABM$ ,  $DCM$ 은 서로 닮은 도형이므로

$$\overline{MA} \times \overline{MC} = \overline{MB} \times \overline{MD}$$

에서

$$2 \times 2 = \frac{\sqrt{10}}{2} \times \overline{MD}$$

따라서

$$\overline{MD} = \frac{8}{\sqrt{10}} = \frac{4\sqrt{10}}{5}$$

16. ①

[출제의도] 사인법칙과 코사인법칙을 이용하여 원의 반지름의 길이를 구할 수 있는가?

$\angle BAC = \angle CAD = \theta$ 라 하면

삼각형  $ABC$ 에서 코사인법칙에 의하여

$$\overline{BC}^2 = \overline{AB}^2 + \overline{AC}^2 - 2 \times \overline{AB} \times \overline{AC} \times \cos \theta$$

$$= 25 + 45 - 2 \times 5 \times 3 \sqrt{5} \times \cos \theta$$

$$= 70 - 30\sqrt{5} \cos \theta$$

또 삼각형  $ACD$ 에서 코사인법칙에 의하여

$$\overline{CD}^2 = \overline{AD}^2 + \overline{AC}^2 - 2 \times \overline{AD} \times \overline{AC} \times \cos \theta$$

$$= 49 + 45 - 2 \times 7 \times 3 \sqrt{5} \times \cos \theta$$

$$= 94 - 42\sqrt{5} \cos \theta$$

이때  $\angle BAC = \angle CAD$ 이므로  $\overline{BC}^2 = \overline{CD}^2$

$$70 - 30\sqrt{5} \cos \theta = 94 - 42\sqrt{5} \cos \theta \text{에서 } \cos \theta = \frac{2\sqrt{5}}{5}$$

$$\overline{BC}^2 = 70 - 30\sqrt{5} \cos \theta = 70 - 30\sqrt{5} \times \frac{2\sqrt{5}}{5} = 10$$

$$\text{즉, } \overline{BC} = \sqrt{10}$$

한편,

$$\sin^2 \theta = 1 - \cos^2 \theta = 1 - \left(\frac{2\sqrt{5}}{5}\right)^2 = \frac{1}{5} \text{이므로 } \sin \theta = \frac{\sqrt{5}}{5}$$

따라서 구하는 원의 반지름의 길이를  $R$ 라 하면

삼각형  $ABC$ 에서 사인법칙에 의하여

$$\frac{\overline{BC}}{\sin \theta} = 2R$$

$$\frac{\sqrt{10}}{\frac{\sqrt{5}}{5}} = 2R$$

$$5\sqrt{2} = 2R$$

$$\text{즉, } R = \frac{5\sqrt{2}}{2}$$

17. ①

$\overline{AB} = 3$ ,  $\overline{BC} = \sqrt{13}$ 이고,  $\angle BAC = \frac{\pi}{3}$ 이다.

$\overline{AC} = x$ 라 하자. 삼각형  $ABC$ 에서 코사인 법칙에 의하여

$$(\sqrt{13})^2 = 3^2 + x^2 - 2 \cdot 3 \cdot x \cdot \cos \frac{\pi}{3}$$

$$= 3^2 + x^2 - 2 \cdot 3 \cdot x \cdot \frac{1}{2}$$

이므로  $x = 4$ 이다.

$$\therefore \overline{AC} = 4$$

삼각형  $ABC$ 의 넓이는  $S_1$ 이다.

$$S_1 = \frac{1}{2} \times 3 \times 4 \times \sin \frac{\pi}{3} = 3\sqrt{3}$$

삼각형  $ACD$ 의 넓이는  $S_2$ 이고,  $S_2 = \frac{5}{6} S_1$ 이다.

$$\therefore S_2 = \frac{5\sqrt{3}}{2}$$

$\angle ADC = \theta$ 라 하자.  $\overline{AD} \times \overline{CD} = 9$ 이므로  $S_2$ 는

$$\frac{1}{2} \times 9 \times \sin \theta = \frac{5\sqrt{3}}{2}, \quad \sin \theta = \frac{5\sqrt{3}}{9}$$

$$\therefore \sin(\angle ADC) = \frac{5\sqrt{3}}{9}$$

삼각형  $ACD$ 의 외접원의 반지름의 길이가  $R$ 이다. 사인법칙에 의하여

$$\frac{\overline{AC}}{\sin \theta} = 2R, \quad \frac{4}{\frac{5\sqrt{3}}{9}} = 2R, \quad R = \frac{18}{5\sqrt{3}}$$

이다.

$$\therefore \frac{R}{\sin(\angle ADC)} = \frac{\frac{18}{5\sqrt{3}}}{\frac{5\sqrt{3}}{9}} = \frac{54}{25}$$

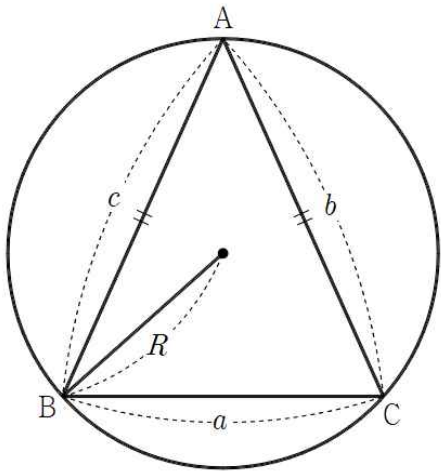
18. ⑤

삼각형  $ABC$ 의 외접원의 넓이가  $9\pi$ 이므로 외접원의 반지름의 길이를  $R$ 라 하면  $R = 3$

조건 (가)에서  $3\sin A = 2\sin B$ 이므로

$$\frac{3a}{2R} = \frac{2b}{2R} \quad \therefore 3a = 2b$$

조건 (나)에서  $\cos B = \cos C$  이므로  
 $\angle B = \angle C \quad \therefore b = c$



삼각형 ABC에서 코사인법칙에 의하여

$$\cos A = \frac{b^2 + c^2 - a^2}{2bc} = \frac{b^2 + b^2 - \left(\frac{2}{3}b\right)^2}{2b^2} = \frac{7}{9}$$

$$\sin A = \sqrt{1 - \left(\frac{7}{9}\right)^2} = \frac{4\sqrt{2}}{9}$$

삼각형 ABC에서 사인법칙에 의하여

$$\frac{a}{\sin A} = 2R, \quad a = 2 \times 3 \times \frac{4\sqrt{2}}{9} = \frac{8\sqrt{2}}{3}$$

따라서 삼각형 ABC의 넓이를 S라 하면

$$\begin{aligned} S &= \frac{1}{2} \times b \times c \times \sin A = \frac{1}{2} \times \left(\frac{3}{2}a\right) \times \left(\frac{3}{2}a\right) \times \frac{4\sqrt{2}}{9} \\ &= \frac{\sqrt{2}}{2} a^2 = \frac{\sqrt{2}}{2} \times \left(\frac{8\sqrt{2}}{3}\right)^2 = \frac{64\sqrt{2}}{9} \end{aligned}$$

19. ①

삼각형 ABC의 외접원을  $C_1$ ,

삼각형 ADC의 외접원을  $C_2$ 라 하자.

원  $C_1$ 의 반지름의 길이를 R이라 하면

삼각형 ABC에서 사인법칙에 의하여

$$\frac{\overline{BC}}{\sin(\angle BAC)} = \frac{36\sqrt{7}}{7} = 18 = 2R, \quad R = 9$$

원  $C_2$ 에서  $\angle AO'D$ 는 호 AD의 중심각,

$\angle ACD$ 는 호 AD의 원주각이므로

$$\angle AO'D = 2\angle ACD = \frac{2}{3}\pi$$

이등변삼각형  $O'AD$ 에서  $\angle AO'D = \frac{2}{3}\pi$ 이므로

$$\angle DAO' = \frac{\pi}{6}$$

$$\overline{OA} = R = 9, \quad \overline{AO'} = 5\sqrt{3}$$

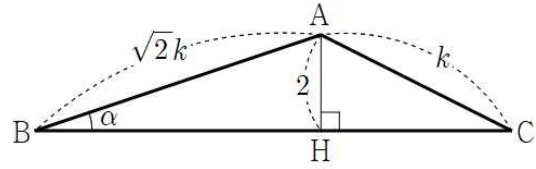
$$\angle OAO' = \frac{\pi}{6} \text{이므로}$$

삼각형  $AOO'$ 에서 코사인법칙에 의하여

$$\begin{aligned} \overline{OO'}^2 &= 9^2 + (5\sqrt{3})^2 - 2 \times 9 \times 5\sqrt{3} \times \cos \frac{\pi}{6} \\ &= 81 + 75 - 135 = 21 \end{aligned}$$

따라서  $\overline{OO'} = 21$

20. ①



삼각형 ABC의 외접원의 넓이가  $50\pi$ 이므로 외접원의 반지름의 길이를 R라 하면  $R = 5\sqrt{2}$

$\overline{AB} = \sqrt{2}k, \overline{AC} = k (k > 0)$ 으로 놓고  $\angle ABC = \alpha$ 라 하면 삼각형 ABC에서 사인법칙에 의하여

$$\frac{k}{\sin \alpha} = 2R = 10\sqrt{2}, \quad \sin \alpha = \frac{k}{10\sqrt{2}} \dots \dots \textcircled{A}$$

$$\text{직각삼각형 ABH에서} \quad \sin \alpha = \frac{2}{\sqrt{2}k} \dots \dots \textcircled{B}$$

①, ②를 연립하면

$$\frac{k}{10\sqrt{2}} = \frac{2}{\sqrt{2}k}, \quad k^2 = 20$$

직각삼각형 ABH에서 피타고라스의 정리에 의하여

$$\overline{BH} = \sqrt{\overline{AB}^2 - \overline{AH}^2} = \sqrt{2k^2 - 4} = 6$$

21. 15

[출제의도] 사인법칙을 이용하여 문제를 해결한다.

$\overline{AC} = k$ 라 하면  $\overline{BD} = 2k$ 이고

$$\overline{AH} : \overline{HB} = 1 : 3 \text{이므로} \quad \overline{AH} = \frac{1}{2}$$

$\angle CAB = \theta$ 라 할 때, 두 삼각형 ABC, ABD에서 사인법칙을 이용하면

$$\frac{\overline{BC}}{\sin \theta} = 2r, \quad \frac{\overline{AD}}{\sin(\pi - \theta)} = \frac{\overline{AD}}{\sin \theta} = 2R$$

$$\text{즉, } \overline{BC} = 2r \sin \theta, \quad \overline{AD} = 2R \sin \theta$$

$$4(R^2 - r^2) \times \sin^2 \theta = (2R \sin \theta)^2 - (2r \sin \theta)^2 \text{이므로}$$

두 식을  $(2R \sin \theta)^2 - (2r \sin \theta)^2 = 51$ 에 대입하면

$$\overline{AD}^2 - \overline{BC}^2 = 51 \quad \dots \dots \textcircled{A}$$

$$\text{삼각형 AHC에서} \quad \cos \theta = \frac{\overline{AH}}{\overline{CA}} = \frac{1}{2k} \text{이므로}$$

두 삼각형 ABC, ABD에서 코사인법칙을 이용하면

$$\begin{aligned} \overline{BC}^2 &= \overline{AB}^2 + \overline{AC}^2 - 2 \times \overline{AB} \times \overline{AC} \times \cos \theta \\ &= 4 + k^2 - 2 \times 2 \times k \times \cos \theta = k^2 + 2 \quad \dots \dots \textcircled{B} \end{aligned}$$

$$\begin{aligned} \overline{AD}^2 &= \overline{AB}^2 + \overline{BD}^2 - 2 \times \overline{AB} \times \overline{BD} \times \cos(\pi - \theta) \\ &= 4 + 4k^2 + 2 \times 2 \times 2k \times \cos \theta = 4k^2 + 8 \quad \dots \dots \textcircled{C} \end{aligned}$$

$$\textcircled{C}, \textcircled{B} \text{을 } \textcircled{A} \text{에 대입하면} \quad \overline{AD}^2 - \overline{BC}^2 = 3k^2 + 6 = 51$$

즉,  $k^2 = 15$

따라서  $\overline{AC}^2 = 15$

22. ③

[출제의도] 코사인법칙과 삼각비를 이용하여 변의 길이를 구할 수 있는가?

삼각형 ABD에서

$\angle BAC = \angle BDA$ 이고  $\overline{AB} = 4$ 이므로

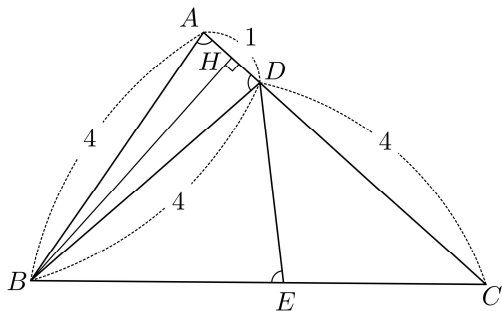
$$\overline{BD} = 4 \quad \dots\dots \textcircled{7}$$

이때 점 B에서 선분 AD에 내린 수선의 발을 H라 하면

$$\overline{AH} = \overline{AB} \cos(\angle BAC) = 4 \times \frac{1}{8} = \frac{1}{2}$$

그러므로


$$\overline{AD} = 1$$



삼각형 BCD는  $\overline{DB} = \overline{DC} = 4$ 인 이등변삼각형이다.

점 D에서 변 BC에 내린 수선의 발을 H',  $\overline{DE} = x$ 라 하면

$$\overline{DH'} = x \sin(\angle H'ED) = x \times \sqrt{1 - \left(\frac{1}{8}\right)^2} = \frac{\sqrt{63}}{8}x \quad \dots\dots \textcircled{8}$$



한편, 삼각형 ABC에서

$$\begin{aligned} \overline{BC}^2 &= \overline{AB}^2 + \overline{AC}^2 \\ &= -2 \times \overline{AB} \times \overline{AC} \times \cos(\angle BAC) \\ &= 4^2 + 5^2 - 2 \times 4 \times 5 \times \frac{1}{8} \\ &= 36 \end{aligned}$$

이므로

$$\overline{BC} = 6$$

$$\text{이때, } \overline{BH'} = \frac{1}{2} \overline{BC} = 3 \quad \dots\dots \textcircled{9}$$

직각삼각형 DBH'에서  $\textcircled{7}$ ,  $\textcircled{8}$ ,  $\textcircled{9}$ 을 이용하면

$$4^2 = \left(\frac{\sqrt{63}}{8}x\right)^2 + 3^2$$

$$\frac{63}{64}x^2 = 7$$

$$x^2 = \frac{64}{9}$$

$$\overline{DE} = x \text{이므로 } x > 0$$

$$\text{따라서 } \overline{DE} = \frac{8}{3}$$

23. 84

[출제의도] 코사인법칙을 이용하여 문제를 해결한다.

호 BD와 호 DC에 대한 원주각의 크기가 같으므로

$\angle CBD = \angle CAD = \angle DAB = \angle DCB$ 이다.

즉,  $\overline{BD} = \overline{DC}$

$\overline{BD} = \overline{DC} = a$ ,  $\overline{AD} = b$ ,  $\angle CAD = \theta$ 라 하면

$\angle DAB = \theta$ 이고  $\overline{BD}^2 = \overline{DC}^2$ 이므로

삼각형 DAB와 삼각형 CAD에 각각 코사인법칙을 적용하면

$$6^2 + b^2 - 2 \times 6 \times b \times \cos \theta = b^2 + 8^2 - 2 \times b \times 8 \times \cos \theta$$

$$4b \cos \theta = 28 \text{ 이므로}$$

$$\text{직각삼각형 ADE에서 } k = b \cos \theta = 7$$

$$\text{따라서 } 12k = 84$$

24. ⑤

[출제의도] 코사인법칙을 활용하여 추론하기

$$\text{ㄱ. } \angle BCA = \frac{\pi}{2} \text{ 이므로}$$

$$\cos(\angle CBA) = \frac{\overline{BC}}{\overline{AB}} = \frac{3}{7}$$

$$\sin(\angle CBA) = \sqrt{1 - \left(\frac{3}{7}\right)^2} = \frac{2\sqrt{10}}{7} \text{ (참)}$$

$$\text{ㄴ. } \angle CBA = \theta \left(0 < \theta < \frac{\pi}{2}\right) \text{ 라 하면 } \angle ADC = \pi - \theta$$

$$\overline{AC} = \overline{AB} \times \sin \theta = 14 \times \frac{2\sqrt{10}}{7} = 4\sqrt{10}$$

$\overline{AD} = k$  ( $k > 0$ ) 이라 하면

삼각형 ACD에서 코사인법칙에 의하여

$$\begin{aligned} (4\sqrt{10})^2 &= k^2 + 7^2 - 2 \times k \times 7 \times \cos(\pi - \theta) \\ &= k^2 + 49 + 14k \cos \theta \\ &= k^2 + 6k + 49 \end{aligned}$$

$$k^2 + 6k - 111 = 0 \text{ 이므로}$$

$$\overline{AD} = -3 + \sqrt{9 + 111} = -3 + 2\sqrt{30} \text{ (참)}$$

ㄷ. 삼각형 ACD의 넓이가 최대일 때 사각형 ABCD의 넓이가 최대이므로 점 D는 선분 AC의 수직이등분선이 호 AC와

만나는 점이다. 그러므로  $\overline{AD} = \overline{CD}$

$\overline{AD} = x$  ( $x > 0$ ) 이라 하면

삼각형 ACD에서 코사인법칙에 의하여

$$(4\sqrt{10})^2 = x^2 + x^2 - 2 \times x \times x \times \cos(\pi - \theta)$$

$$= 2x^2 + 2x^2 \times \frac{3}{7} = \frac{20}{7}x^2$$

$$x^2 = 56 \text{ 이므로 } \overline{AD} = 2\sqrt{14}$$

사각형 ABCD의 넓이의 최댓값은

$$\frac{1}{2} \times \overline{AD} \times \overline{CD} \times \sin(\pi - \theta) + \frac{1}{2} \times \overline{AC} \times \overline{BC}$$

$$= \frac{1}{2} \times (2\sqrt{14})^2 \times \frac{2\sqrt{10}}{7} + \frac{1}{2} \times 4\sqrt{10} \times 6$$

$$= 8\sqrt{10} + 12\sqrt{10} = 20\sqrt{10} \text{ (참)}$$

따라서 옳은 것은 ㄱ, ㄴ, ㄷ

25. ⑤

삼각형 CDE에서 코사인 법칙에 따라

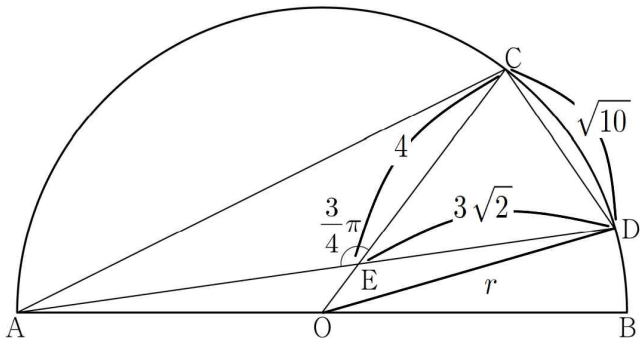
$$\overline{CD}^2 = 4^2 + (3\sqrt{2})^2 - 2 \times 4 \times 3\sqrt{2} \times \cos(\angle CED)$$

$$= 16 + 18 - 24\sqrt{2} \times \frac{1}{\sqrt{2}} = 10,$$

$$\therefore \overline{CD} = \sqrt{10}$$

원의 반지름을  $r$ 이라 할 때,





삼각형 OED에서 코사인 법칙에 따라

$$r^2 = (r-4)^2 + (3\sqrt{2})^2 - 2 \times 3\sqrt{2} \times (r-4) \times \cos \frac{3\pi}{4}$$

$$r^2 = r^2 - 8r + 16 + 18 + 6(r-4), \quad 10 - 2r = 0, \quad r = 5$$

삼각형 ACD에서  $\angle CAD = \theta$ 라 할 때, 사인법칙에 따라

$$\frac{\overline{CD}}{\sin \theta} = 2r, \quad \frac{\sqrt{10}}{\sin \theta} = 10, \quad \sin \theta = \frac{\sqrt{10}}{10}$$

삼각형 AEC에서

$$\frac{\overline{AC}}{\sin \frac{3\pi}{4}} = \frac{4}{\sin \theta}, \quad \overline{AC} = \frac{4}{\frac{\sqrt{10}}{10}} \times \frac{1}{\sqrt{2}} = \frac{40}{2\sqrt{5}} = 4\sqrt{5}$$

$$\therefore \overline{AC} \times \overline{CD} = 4\sqrt{5} \times \sqrt{10} = 20\sqrt{2}$$

26. ③

[출제의도] 사인법칙과 코사인법칙을 이용하여 삼각형에 관한 문제를 해결한다.

삼각형 PBC에서

$$\angle BPC = 180^\circ - (30^\circ + 15^\circ) = 135^\circ$$

삼각형 PBC에서 사인법칙에 의하여

$$\frac{2\sqrt{3}}{\sin 135^\circ} = \frac{\overline{PC}}{\sin 30^\circ} \text{ 이므로}$$

$$\overline{PC} = 2\sqrt{3} \times \frac{\sin 30^\circ}{\sin 135^\circ} = \sqrt{6}$$

$\overline{AC} = b$ 라 하면 삼각형 ABC에서 코사인법칙에 의하여

$$(2\sqrt{3})^2 = (2\sqrt{2})^2 + b^2 - 2 \times 2\sqrt{2} \times b \times \cos 60^\circ$$

$$b^2 - 2\sqrt{2}b - 4 = 0$$

$$b > 0 \text{ 이므로 } b = \sqrt{2} + \sqrt{6}$$

삼각형 ABC에서 사인법칙에 의하여

$$\frac{2\sqrt{3}}{\sin 60^\circ} = \frac{2\sqrt{2}}{\sin C} \text{ 이므로 } \sin C = \frac{\sqrt{2}}{2}$$

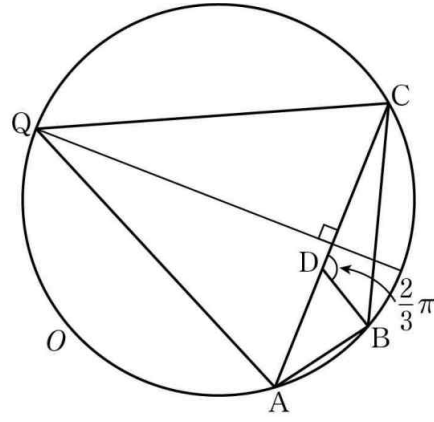
$$A = 60^\circ \text{에서 } C < 120^\circ \text{이므로 } C = 45^\circ$$

$\angle PCA = 45^\circ - 15^\circ = 30^\circ$ 이므로 삼각형 APC의 넓이는

$$\frac{1}{2} \times \sqrt{6} \times (\sqrt{2} + \sqrt{6}) \times \sin 30^\circ = \frac{3 + \sqrt{3}}{2}$$

27. ②

점 B를 포함하지 않는 호 AC와 선분 AC의 수직이등분선의 교점을 R라 하자. P=R일 때, 삼각형 PAC의 넓이가 최대가 되므로 Q=R이다.



$$\cos(\angle ABC) = -\frac{5}{8} \text{ 이므로}$$

$$\cos(\angle CQA) = \cos(\pi - \angle ABC) = -\cos(\angle ABC) = \frac{5}{8}$$

$$\overline{QA} = \overline{QC} = 6\sqrt{10} \text{ 이므로}$$

삼각형 QAC에서 코사인법칙에 의하여

$$\overline{AC}^2 = \overline{QA}^2 + \overline{QC}^2 - 2 \times \overline{QA} \times \overline{QC} \times \cos(\angle CQA)$$

$$= (6\sqrt{10})^2 + (6\sqrt{10})^2 - 2 \times 6\sqrt{10} \times 6\sqrt{10} \times \frac{5}{8} = 270$$

$\overline{AB} = a$  ( $a > 0$ )이라 하면  $2\overline{AB} = \overline{BC}$ 에서  $\overline{BC} = 2a$ 이다.

삼각형 ABC에서 코사인법칙에 의하여

$$\overline{AC}^2 = \overline{AB}^2 + \overline{BC}^2 - 2 \times \overline{AB} \times \overline{BC} \times \cos(\angle ABC)$$

$$= a^2 + (2a)^2 - 2 \times a \times 2a \times \left(-\frac{5}{8}\right) = \frac{15}{2}a^2$$

$$\frac{15}{2}a^2 = 270 \text{에서 } a = 6$$

삼각형 CDB의 외접원의 반지름의 길이를 R라 하면 삼각형 CDB에서 사인법칙에 의하여

$$2R = \frac{\overline{BC}}{\sin(\angle CDB)} = \frac{2a}{\sin \frac{2\pi}{3}} = \frac{12}{\frac{\sqrt{3}}{2}} = 8\sqrt{3}$$

$$\text{따라서 } R = 4\sqrt{3}$$

28. ⑤

삼각형 ABE와 삼각형 DCE는 서로 닮음이고

$$\overline{AB} : \overline{DC} = 1 : 2 \text{ 이므로 } \overline{BE} : \overline{CE} = 1 : 2 \text{ 이다.}$$

삼각형 BEC에서  $\overline{BE} = k$  ( $k > 0$ )이라 하면  $\overline{CE} = 2k$

원주각의 성질에 의하여  $\angle BDC = \angle BAC = \alpha$ 이므로

$$\angle BEC = \alpha + \beta$$

삼각형 BEC에서 코사인법칙에 의하여

$$(2\sqrt{30})^2 = k^2 + 4k^2 - 2 \times k \times 2k \times \left(-\frac{5}{12}\right), \quad k^2 = 18$$

$$k > 0 \text{ 이므로 } k = 3\sqrt{2}, \quad \overline{BE} = 3\sqrt{2}$$

$\overline{AE} = t$  ( $t > 0$ )이라 하면 삼각형 ABE에서

$$0 < \alpha < \frac{\pi}{2} \text{ 이므로 } t^2 + 4^2 > (3\sqrt{2})^2, \quad t > \sqrt{2}$$

$$\cos(\pi - (\alpha + \beta)) = -\cos(\alpha + \beta) = \frac{5}{12}$$

삼각형 ABE에서 코사인법칙에 의하여

$$4^2 = t^2 + (3\sqrt{2})^2 - 2 \times t \times 3\sqrt{2} \times \frac{5}{12}$$

$$2t^2 - 5\sqrt{2}t + 4 = 0$$

$$(2t - \sqrt{2})(t - 2\sqrt{2}) = 0$$

$t > \sqrt{2}$  이므로  $t = 2\sqrt{2}$   
따라서 구하는 선분 AE의 길이는  $2\sqrt{2}$ 이다.

29. 22

[출제의도] 사인법칙과 코사인법칙을 활용하여 문제해결하기

$\overline{OP} = k_1, \overline{OQ} = k_2$ 라 하자.

삼각형 OAP에서 코사인법칙에 의하여

$$2^2 = k_1^2 + (2\sqrt{15})^2 - 2 \times k_1 \times 2\sqrt{15} \times \frac{\sqrt{15}}{4}$$

삼각형 OAQ에서 코사인법칙에 의하여

$$2^2 = k_2^2 + (2\sqrt{15})^2 - 2 \times k_2 \times 2\sqrt{15} \times \frac{\sqrt{15}}{4}$$

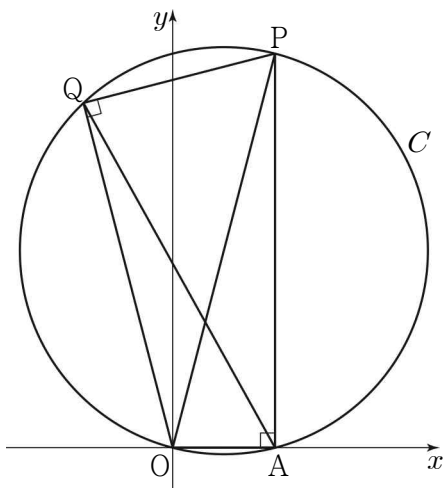
이므로 두 실수  $k_1, k_2$ 는 이차방정식

$$2^2 = x^2 + (2\sqrt{15})^2 - 2 \times x \times 2\sqrt{15} \times \frac{\sqrt{15}}{4}$$

의 서로 다른 두 실근이다.

$$x^2 - 15x + 56 = (x-7)(x-8) = 0$$

에서  $k_1 > k_2$ 이므로  $k_1 = 8, k_2 = 7$



$\cos(\angle OPA) = \cos(\angle OQA)$  이므로  $\angle OPA = \angle OQA$

삼각형 OAP의 외접원을 C라 하면

두 점 P, Q의 y좌표가 양수이므로 점 Q도 원 C 위의 점이다.

$$\sin(\angle OPA) = \sqrt{1 - \left(\frac{\sqrt{15}}{4}\right)^2} = \frac{1}{4} \text{이므로}$$

원 C의 반지름의 길이를 R라 하면 삼각형 OAP에서 사인법칙에 의하여

$$\frac{\overline{OA}}{\sin(\angle OPA)} = 8 = 2R$$

그러므로 선분 OP는 원 C의 지름이다.

$$\angle PAO = \angle OQP = \frac{\pi}{2} \text{이므로}$$

$$\text{직각삼각형 OPQ에서 } \overline{PQ} = \sqrt{8^2 - 7^2} = \sqrt{15}$$

사각형 OAPQ의 넓이는

두 직각삼각형 OAP, OPQ의 넓이의 합과 같으므로

$$\frac{1}{2} \times 2 \times 2\sqrt{15} + \frac{1}{2} \times 7 \times \sqrt{15} = \frac{11}{2} \sqrt{15}$$

에서  $p = 2, q = 11$

따라서  $p \times q = 22$

30. ①

[출제의도] 사인법칙, 코사인법칙과 삼각형의 넓이를 이용하여 조건을 만족시키는 사각형의 변의 길이를 구할 수 있는가

$$\angle BCD = \alpha, \angle DAB = \beta \left( \frac{\pi}{2} < \beta < \pi \right),$$

$\overline{AB} = a, \overline{AD} = b$ 라 하자.

삼각형 BCD에서

$$\overline{BC} = 3, \overline{CD} = 2, \cos(\angle BCD) = -\frac{1}{3}$$

이므로 코사인법칙에 의하여

$$\overline{BD}^2 = 9 + 4 - 2 \times 3 \times 2 \times \left(-\frac{1}{3}\right) = 17$$

그러므로 삼각형 ABD에서 코사인법칙에 의하여

$$a^2 + b^2 - 2ab \cos \beta = 17 \quad \dots \textcircled{1}$$

한편, 점 E가 선분 AC를 1 : 2로 내분하는 점이므로

두 삼각형  $AP_1P_2, CQ_1Q_2$ 의 외접원의 반지름의 길이를 각각  $r,$

$2r$ 로 놓을 수 있다.

이때 사인법칙에 의하여

$$\frac{\overline{P_1P_2}}{\sin \beta} = r, \frac{\overline{Q_1Q_2}}{\sin \alpha} = 2r \text{ 이므로}$$

$$\sin \alpha : \sin \beta = \frac{\overline{Q_1Q_2}}{2r} : \frac{\overline{P_1P_2}}{r} = \frac{5\sqrt{2}}{2} : 3$$

$$\text{즉, } \sin \beta = \frac{6 \sin \alpha}{5\sqrt{2}}$$

이때

$$\sin \alpha = \sqrt{1 - \cos^2 \alpha} = \sqrt{1 - \frac{1}{9}} = \frac{2\sqrt{2}}{3}$$

이므로

$$\sin \beta = \frac{6}{5\sqrt{2}} \times \frac{2\sqrt{2}}{3} = \frac{4}{5}$$

$\cos \beta < 0$  이므로

$$\cos \beta = -\sqrt{1 - \sin^2 \beta} = -\sqrt{1 - \frac{16}{25}} = -\sqrt{\frac{9}{25}} = -\frac{3}{5}$$

삼각형 ABD의 넓이가 2이므로

$$\frac{1}{2} ab \sin \beta = 2 \text{ 에서}$$

$$\frac{1}{2} ab \times \frac{4}{5} = 2$$

$$ab = 5$$

①에서

$$a^2 + b^2 - 2 \times 5 \times \left(-\frac{3}{5}\right) = 17$$

$$a^2 + b^2 = 11$$

따라서

$$(a+b)^2 = a^2 + b^2 + 2ab = 11 + 2 \times 5 = 21$$

이므로

$$a+b = \sqrt{21}$$

31. ①

$\angle AFC = \alpha, \angle CDE = \beta$ 라 하자.

$$\cos \alpha = \frac{\sqrt{10}}{10} \text{ 이므로 } \sin \alpha = \frac{3\sqrt{10}}{10}$$

$$\angle ECD = \angle EFB = \pi - \alpha$$

삼각형 CDE에서 사인법칙에 의하여

$$\frac{\overline{ED}}{\sin(\pi-\alpha)} = \frac{\overline{EC}}{\sin\beta} = 10\sqrt{2}$$

$$\overline{ED} = 10\sqrt{2} \times \sin\alpha = 10\sqrt{2} \times \frac{3\sqrt{10}}{10} = 6\sqrt{5}$$

$$\sin\beta = \frac{\sqrt{2}}{2}, \beta = \frac{\pi}{4}$$

$\overline{CD} = x$ 라 하자.

삼각형 CDE에서 코사인법칙에 의하여

$$180 = x^2 + 100 - 2 \times x \times 10 \times \cos(\pi - \alpha)$$

$$= x^2 + 100 + 2 \times x \times 10 \times \cos\alpha$$

$$= x^2 + 2\sqrt{10}x + 100$$

$$x^2 + 2\sqrt{10}x - 80 = 0 \text{ 이고 } x > 0 \text{ 이므로}$$

$$x = -\sqrt{10} + \sqrt{10+80} = 2\sqrt{10}$$

$\angle ABE = \angle CDE = \frac{\pi}{4}$  이므로 삼각형 ABE는 직각이등변삼각형이다.

$$\overline{AB} = 2\sqrt{10} \text{ 이므로 } \overline{BE} = \overline{AE} = 2\sqrt{5}$$

두 삼각형 BEF, DEC는 서로 닮음이고 닮음비가 1:3이다.

$$\overline{AF} = \frac{2}{3} \times \overline{AB} = \frac{4\sqrt{10}}{3}$$

따라서 삼각형 AFE의 넓이는

$$\frac{1}{2} \times \overline{AF} \times \overline{AE} \times \sin\frac{\pi}{4}$$

$$= \frac{1}{2} \times \frac{4\sqrt{10}}{3} \times 2\sqrt{5} \times \frac{\sqrt{2}}{2} = \frac{20}{3}$$

32. 6

[출제의도] 사인법칙과 코사인법칙을 이용하여 삼각형에 관한 문제를 해결한다.

$\angle CAE = \theta$ 라 하면  $\sin\theta = \frac{1}{4}$  이고  $\overline{BC} = 4$  이므로

삼각형 ACE에서 사인법칙에 의하여

$$\frac{\overline{CE}}{\sin\theta} = \overline{BC}, \overline{CE} = 1$$

$$\overline{BF} = \overline{CE} = 1 \text{ 이므로 } \overline{FC} = 3$$

$\overline{BC} = \overline{DE}$ 에서 선분 DE도 주어진 원의 지름이므로

$\angle BAC = \angle DAE = 90^\circ$  이다.

$\angle BAD = 90^\circ - \angle DAC = \theta$

삼각형 ABF에서 사인법칙에 의하여

$$\frac{k}{\sin(\angle ABF)} = \frac{1}{\sin\theta} = 4 \text{ 이므로 } \sin(\angle ABF) = \frac{k}{4}$$

직각삼각형 ABC에서  $\sin(\angle ABC) = \frac{\overline{AC}}{4}$  이므로

$$\overline{AC} = 4\sin(\angle ABC) = 4 \times \frac{k}{4} = k$$

직각삼각형 ABC에서  $\cos(\angle BCA) = \frac{k}{4}$  이므로

삼각형 AFC에서 코사인법칙에 의하여

$$\overline{AF}^2 = \overline{AC}^2 + \overline{FC}^2 - 2 \times \overline{AC} \times \overline{FC} \times \cos(\angle FCA)$$

$$k^2 = k^2 + 3^2 - 2 \times k \times 3 \times \frac{k}{4}, \frac{3}{2}k^2 = 9$$

따라서  $k^2 = 6$

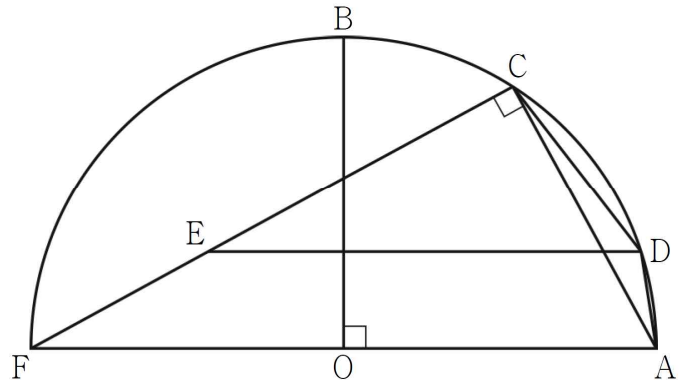
33. 64

[출제의도] 사인법칙과 코사인법칙을 활용하여 문제해결하기

중심이 O이고 반지름의 길이가 6인 원을 C라 하고, 원 C와 직선 OA가 만나는 점 중 A가 아닌 점을 F라 하자. 선분 FA는 원 C의

지름이므로  $\angle FCA = \frac{\pi}{2}$ 이다. 또한  $\angle ECA = \frac{\pi}{2}$ 이므로

세 점 C, E, F는 한 직선 위에 있다.



직선 ED가 직선 OA에 평행하므로

$$\sin(\angle DEC) = \sin(\angle AFC) = \frac{\overline{AC}}{\overline{AF}} = \frac{\sqrt{2}}{3}$$

삼각형 CED에서 사인법칙에 의하여

$$\frac{\overline{CD}}{\sin(\angle DEC)} = 2 \times 3\sqrt{2} = 6\sqrt{2}, \overline{CD} = 4$$

사각형 ADCF가 원 C에 내접하므로

$$\cos(\angle CDA) = \cos(\pi - \angle AFC)$$

$$= -\cos(\angle AFC)$$

$$= -\sqrt{1 - \left(\frac{\sqrt{2}}{3}\right)^2} = -\frac{\sqrt{7}}{3}$$

삼각형 ADC에서 코사인법칙에 의하여

$$(4\sqrt{2})^2 = 4^2 + \overline{AD}^2 - 2 \times 4 \times \overline{AD} \times \left(-\frac{\sqrt{7}}{3}\right)$$

$$3 \times \overline{AD}^2 + 8\sqrt{7} \times \overline{AD} - 48 = 0$$

$$\overline{AD} > 0 \text{ 이므로 } \overline{AD} = \frac{16}{3} - \frac{4}{3}\sqrt{7}$$

따라서  $p = \frac{16}{3}, q = -\frac{4}{3}$  이므로

$$9 \times |p \times q| = 64$$

34. ④

주어진 그림에서  $\overline{AD} : \overline{DB} = 3 : 2$  이므로  $\overline{AD} = 3t$  ( $t > 0$ ) 이라

하면  $\overline{DB} = 2t, \overline{AB} = 5t$

이때 삼각형 ABC의 외접원의 반지름의 길이가 7이므로 사인법칙에 의하여

$$\frac{\overline{BC}}{\sin A} = \frac{\overline{AB}}{\sin C} = 14, \sin A : \sin C = \overline{BC} : \overline{AB}$$

$\sin A : \sin C = 8 : 5$  이므로  $\overline{BC} : \overline{AB} = 8 : 5$ 에서

$$\overline{BC} = 8t$$

두 삼각형 ADE, ABC의 넓이의 비가 9:35이므로

$$\frac{1}{2} \times 3t \times \overline{AE} \times \sin A : \frac{1}{2} \times 5t \times \overline{AC} \times \sin A = 9 : 35$$

$$3\overline{AE} : 5\overline{AC} = 9 : 35, \overline{AE} = \frac{3}{7}\overline{AC}$$

즉  $\overline{AE} : \overline{AC} = 3 : 7$  이고  $\overline{AD} = \overline{AE}$  이므로

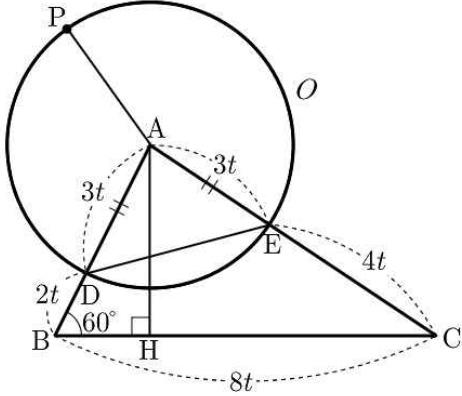
$$\overline{AE} = 3t, \overline{AC} = 7t$$

라 할 수 있다.

삼각형 ABC에서 코사인법칙에 의하여

$$\cos(\angle ABC) = \frac{(5t)^2 + (8t)^2 - (7t)^2}{2 \times 5t \times 8t} = \frac{40t^2}{80t^2} = \frac{1}{2}$$

$$\therefore \angle ABC = 60^\circ$$



삼각형 ABC의 외접원의 반지름의 길이가 7이므로 사인법칙에 의하여

$$\frac{\overline{AC}}{\sin(\angle ABC)} = 14, \quad 7t = 14 \times \sin 60^\circ = 7\sqrt{3}$$

즉  $t = \sqrt{3}$  이므로

$$\overline{BC} = 8t = 8\sqrt{3}, \quad \overline{AD} = \overline{AE} = 3\sqrt{3}$$

이때 점 A에서 변 BC에 내린 수선의 발을 H라 하면

$$\overline{AH} = \overline{AB} \times \sin 60^\circ = 5\sqrt{3} \times \frac{\sqrt{3}}{2} = \frac{15}{2}$$

따라서 원 O 위의 점 P에 대하여 삼각형 PBC의 넓이의 최댓값은

$$\begin{aligned} \frac{1}{2} \times (\overline{AP} + \overline{AH}) \times \overline{BC} &\leq \frac{1}{2} \times \left( 3\sqrt{3} + \frac{15}{2} \right) \times 8\sqrt{3} \\ &= 36 + 30\sqrt{3} \end{aligned}$$